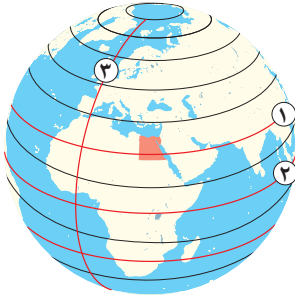


السؤال الأول لاحظ الشكل المقابل، ثم أجب:



- ١ يشير رقم (١) إلى مدار
- ٢ يشير رقم (٢) إلى دائرة
- ٣ يشير رقم (٣) إلى خط

السؤال الثاني اكتب كلمة (صواب) أمام العبارة الصحيحة، وكلمة (خطأ) أمام العبارة غير الصحيحة:

- ١ استطاع الملك نعرمر (مينا) بناء جيش قوي لحماية البلاد. ()
- ٢ الأودية الجافة هي مجار كانت تملؤها المياه قديماً ولكنها جفت. ()
- ٣ يأتي فصل الصيف في مصر عندما تتعامد أشعة الشمس على مدار الجدي. ()
- ٤ اليربوع من الحيوانات التي تعيش في الصحراء. ()

السؤال الثالث اكمل العبارات التالية بما يناسبها من كلمات:

- ١ يصب وادي العريش في البحر
- ٢ تهب رياح الخماسين على مصر في فصل
- ٣ تقع محمية الزرانيق في محافظة

السؤال الرابع اختر الإجابة الصحيحة مما بين القوسين:

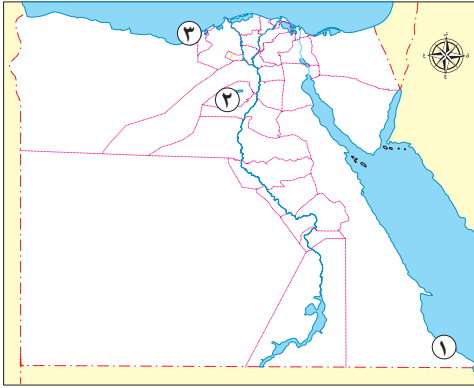
- ١ عامل طبيعي ساعد على قيام الحضارة المصرية القديمة
- (الجيش القوي - الموقع الجغرافي - الحكومة المركزية - وحدة المصريين)
- ٢ تقع مصر في شمال شرق قارة
- (آسيا - إفريقيا - أوروبا - أستراليا)
- ٣ أحد الأسباب البشرية التي أدت للتغيرات المناخية
- (الزلازل - الانفجارات البركانية - صناعة الأسمنت - الأعاصير)

السؤال الخامس أجب عما يلي:

- ١ ما العلاقة بين (نبات الصبار - البيئة الصحراوية)؟
- ٢ حدد أحد جهود الدولة لمواجهة تأثيرات التغير المناخي.



السؤال الأول لاحظ الخريطة، ثم أجب:



- ١ يشير رقم (١) إلى محمية
 - ٢ يشير رقم (٢) إلى منخفض
 - ٣ صواب أم خطأ:
- تقع المدينة رقم (٣) في إقليم المناخ الصحراوي الحار. ()

السؤال الثاني اكتب كلمة (صواب) أمام العبارة الصحيحة، وكلمة (خطأ) أمام العبارة غير الصحيحة:

- ١ التغير المناخي هو اختلافات وتحولات في درجة الحرارة والأمطار عن المعتاد. ()
- ٢ تسمح الدولة بالصيد البري في مناطق المحميات الطبيعية. ()
- ٣ نستفيد من دوائر العرض في دراسة المناخ. ()

السؤال الثالث اكمل العبارات التالية بما يناسبها من كلمات:

- ١ تقع محمية نبق في محافظة
- ٢ تحديد موقع محافظتك بالنسبة للمحافظات المجاورة يُسمى الموقع
- ٣ تم توحيد مصر عام ٣٢٠٠ ق.م على يد الملك
- ٤ قد تتعرض سواحل مصر الشمالية للغرق؛ بسبب ارتفاع منسوب مياه البحر

السؤال الرابع اختر الإجابة الصحيحة مما بين القوسين:

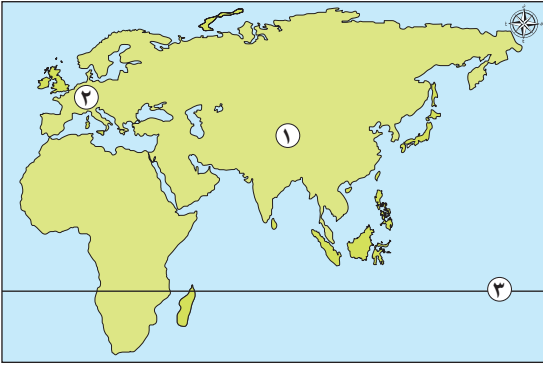
- ١ تصل مياه نهر النيل إلى منخفض الفيوم عن طريق ترعة
(الإسماعيلية - الإبراهيمية - بحر يوسف - السلام)
- ٢ تتركز معظم الأراضي الزراعية المصرية في
(وادي النيل - دلتا النيل - منخفض الفيوم - الواحات البحرية)
- ٣ مدينة تشتهر باعتدال مناخها صيفًا
(الإسكندرية - القاهرة - قنا - أسوان)

السؤال الخامس قارن بين كل من:

- مملكتي الشمال والجنوب من حيث: العاصمة - لون التاج.



السؤال الأول لاحظ الخريطة، ثم أجب:



- ١ يشير رقم (١) إلى قارة
- ٢ صواب أم خطأ: يشير رقم (٢) إلى قارة تقع فيها مصر. ()
- ٣ يشير رقم (٣) إلى مدار

السؤال الثاني اكتب كلمة (صواب) أمام العبارة الصحيحة، وكلمة (خطأ) أمام العبارة غير الصحيحة:

- ١ تقسم دائرة الاستواء الكرة الأرضية إلى نصفين شمالي وجنوبي. ()
- ٢ تكونت مملكة الشمال من أقاليم الوجه القبلي. ()
- ٣ تبدو دلتا النيل على الخريطة في شكل مربع. ()
- ٤ تتكون الثلوج شتاءً على جبل سانت كاترين. ()

السؤال الثالث أكمل العبارات التالية بما يناسبها من كلمات:

- ١ أنشأ الملك نعرمر (ميناً) مدينة
- ٢ بنى المصري القديم مسكنه من
- ٣ زيادة غاز ثاني أكسيد الكربون تؤدي إلى ارتفاع

السؤال الرابع اختر الإجابة الصحيحة مما بين القوسين:

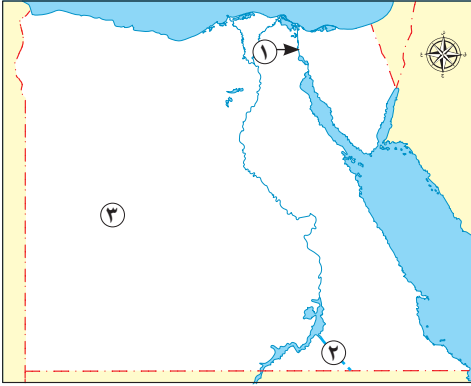
- ١ سقوط الأمطار الغزيرة على المرتفعات يؤدي إلى حدوث
(الزلازل - السيول - البراكين - الأعاصير)
- ٢ يمكنك رؤية طائر أبو قردان في
(الصحراء الغربية - الصحراء الشرقية - الدلتا - سيناء)
- ٣ إحدى هضاب الصحراء الشرقية هضبة
(الجلف الكبير - التيه - العباددة - مارماريكا)

السؤال الخامس أجب عما يلي:

- ١ فسّر: نشأة جبال البحر الأحمر.
- ٢ وضح: كيف أثر التغير المناخي على فصل الشتاء في مصر؟



السؤال الأول لاحظ الخريطة، ثم أجب:



- ١ صواب أم خطأ: يشير رقم (١) إلى قناة السويس. ()
- ٢ يشير رقم (٢) إلى وادي.....
- ٣ يقع رقم (٣) في إقليم المناخ.....

السؤال الثاني اكتب كلمة (صواب) أمام العبارة الصحيحة، وكلمة (خطأ) أمام العبارة غير الصحيحة:

- ١ نجحت مملكة الشمال في توحيد مصر عام ٤٢٤٢ ق.م. ()
- ٢ تنمو أشجار الكافور في الصحاري المصرية. ()
- ٣ يؤدي التغير المناخي إلى انقراض بعض الكائنات الحية. ()

السؤال الثالث أكمل العبارات التالية بما يناسبها من كلمات:

- ١ دائرة العرض التي تمر جنوب مصر هي
- ٢ مؤسس أول أسرة حاكمة في مصر هو الملك
- ٣ تكونت منخفضات الصحراء الغربية نتيجة التعرية
- ٤ تعامد الشمس على دائرة الاستواء في شهر مارس يعني أن مصر في فصل

السؤال الرابع اختر الإجابة الصحيحة مما بين القوسين:

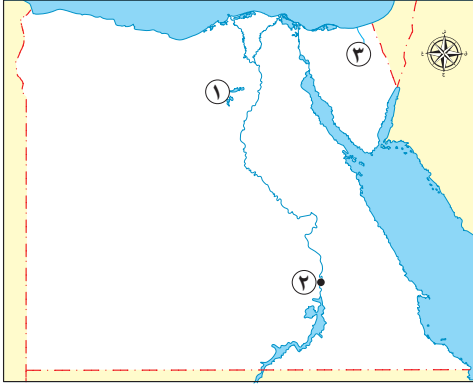
- ١ تكونت أقدم إمبراطورية مصرية على يد الملك
- (مينا - زوسر - تحتمس الثالث - سنوسرت الثاني)
- ٢ أنسب محافظة مما يلي لزراعة التين والزيتون واللوز هي
- (شمال سيناء - جنوب سيناء - البحر الأحمر - الوادي الجديد)
- ٣ أحد العوامل الطبيعية التي أدت إلى حدوث تغيرات مناخية
- (صناعة الأسمنت - بناء المدن - الانفجارات البركانية - صناعة الحديد)

السؤال الخامس أجب عما يلي:

- ١ وضح: لماذا يختلف مناخ مدينة الإسكندرية عن مناخ مدينة الغردقة؟
- ٢ فسّر: نزول المصري القديم من فوق الهضاب.



السؤال الأول لاحظ الخريطة، ثم أجب:



- ١ يشير رقم (١) إلى بحيرة
- ٢ تقع المدينة رقم (٢) في الإقليم المناخي
- ٣ صوب: يشير رقم (٣) إلى وادي **قنا**

السؤال الثاني اكتب كلمة (صواب) أمام العبارة الصحيحة، وكلمة (خطأ) أمام العبارة غير الصحيحة:

- ١ تساعد خطوط الطول على معرفة فروق التوقيت بين الأماكن. ()
- ٢ نشأت الأقاليم في مصر القديمة نتيجة تجمع القرى والمدن. ()
- ٣ تقع معظم الأراضي المصرية في إقليم مناخ البحر المتوسط. ()
- ٤ تغير المناخ يؤثر سلباً على التنوع البيولوجي في مصر. ()

السؤال الثالث اكمل العبارات التالية بما يناسبها من كلمات:

- ١ يتسم الجزء الجنوبي من شبه جزيرة سيناء بوعورة السطح؛ بسبب انتشار
- ٢ موقع محافظتك بالنسبة لدوائر العرض وخطوط الطول يُسمى
- ٣ شعار مملكة الشمال هو

السؤال الرابع اختر الإجابة الصحيحة مما بين القوسين:

- ١ تقع مصر بين خطي طول ٢٥° : ٣٧°
- (شرق جرينتش - غرب جرينتش - شمال الاستواء - جنوب الاستواء)
- ٢ معبود مملكة الجنوب
- (ثعبان الكوبرا - نبات البردي - أنثى النسر - زهرة اللوتس)
- ٣ يؤدي التغير المناخي إلى ظهور مرض
- (البلهارسيا - الطاعون - التيفود - الملاريا)

السؤال الخامس بم تفسر:

- ١ تنوع النبات الطبيعي في مصر. (يُكتفى بواحدة)
- ٢ خصوبة التربة في منخفض الفيوم رغم وقوعه في الصحراء.



إجابة الاختبار ١

السؤال الأول:

١ السرطان.

السؤال الثاني:

١ صواب.

٣ خطأ.

السؤال الثالث:

١ المتوسط.

السؤال الرابع:

١ الموقع الجغرافي.

السؤال الخامس:

١ ينتشر نبات الصبار بالبيئة الصحراوية؛ لأنه يتحمل الجفاف والحرارة المرتفعة بها - كما أنه يمد جذوره للحصول على المياه الجوفية.

٢ تخزين مياه السيول - تطوير البنية التحتية.

إجابة الاختبار ٢

السؤال الأول:

١ جبل علبة.

السؤال الثاني:

١ صواب.

السؤال الثالث:

١ جنوب سيناء.

٣ نعرمر (ميناء).

السؤال الرابع:

١ بحر يوسف.

السؤال الخامس:

٣ جرينتش.

٢ الاستواء.

٢ صواب.

٤ صواب.

٣ شمال سيناء.

٢ الربيع.

٣ صناعة الأسمت.

٢ إفريقيا.

٣ خطأ.

٢ الفيوم.

٣ صواب.

٢ خطأ.

٢ الجغرافي.

٤ المتوسط.

٣ الإسكندرية.

٢ دلتا النيل.

مملكة الجنوب	مملكة الشمال	
نخب	بوتو	العاصمة
أبيض	أحمر	لون التاج



إجابة الاختبار ٣

السؤال الأول:

١ آسيا.

السؤال الثاني:

١ صواب.

٣ خطأ.

السؤال الثالث:

١ من - نفر.

السؤال الرابع:

١ السيول.

السؤال الخامس:

١ نتيجة للحركات الانكسارية التي أصابت الصخور الصلبة.

٢ أصبح فصل الشتاء تتخلله فترات شديدة البرودة وأمطار غزيرة وغير منظمة تصل إلى السيول.

إجابة الاختبار ٤

السؤال الأول:

١ صواب.

السؤال الثاني:

١ صواب.

السؤال الثالث:

١ مدار السرطان.

٣ الهوائية والمائية.

السؤال الرابع:

١ تحتمس الثالث.

السؤال الخامس:

١ حيث تقع مدينة الإسكندرية ضمن إقليم مناخ البحر المتوسط المعتدل، بينما تقع مدينة الغردقة ضمن إقليم المناخ الصحراوي الحار.

٢ بسبب انتشار الجفاف فاضطر للنزول إلى وادي النيل.

٣ الجدي.

٢ خطأ.

٢ خطأ.

٤ صواب.

٣ درجات الحرارة.

٢ الطوب اللبن.

٣ العبادة.

٢ الدلتا.

٣ الصحراوي الحار.

٢ العلاقي.

٣ صواب.

٢ خطأ.

٢ نعرمر (ميناء).

٤ الربيع.

٣ الانفجارات البركانية.

٢ شمال سيناء.



إجابة الاختبار ٥

السؤال الأول:

١ قارون.

السؤال الثاني:

١ صواب.

٣ خطأ.

السؤال الثالث:

١ الجبال.

السؤال الرابع:

١ شرق جرينتش.

السؤال الخامس:

١ - تنوع المناخ بين الصيف والشتاء.

- توفر موارد المياه.

- تنوع البيئات المصرية.

٢ - بسبب اتصاله بترعة بحر يوسف التي تنقل مياه نهر النيل إلى داخل المنخفض.

٣ العريش.

٢ الصحراوي الحار.

٢ صواب.

٤ صواب.

٣ نبات البردي.

٢ الموقع الفلكي.

٣ الملاريا.

٢ أنثى النسر.



اختبارات المحافظات على شهر أكتوبر

١٥

(يجيب عنها التلميذ)

الاختبار الأول



١ أمامك خريطة صماء لمصر لاحظها ثم أجب:

- ١ - يشير رقم (١) للبحر (دمياط ٢٠٢٣)
- ٢ - يشير رقم (٢) لجبل (أسيوط ٢٠٢٣)
- ٣ - يشير رقم (٣) إلى إقليم مناخي وهو (الإسماعيلية ٢٠٢٣)

٢ اكتب كلمة (صواب) أمام العبارة الصحيحة، وكلمة (خطأ) أمام العبارة غير الصحيحة:

- ١ - الموقع الفلكي هو الموقع بالنسبة لخطوط الطول ودوائر العرض. (القاهرة ٢٠٢٣)
- ٢ - تضم مملكة الشمال أقاليم الوجه القبلي. (السويس ٢٠٢٣)
- ٣ - تحلية مياه البحر من الوسائل التي اتخذتها مصر لمواجهة التغيرات المناخية. (الفيوم ٢٠٢٣)
- ٤ - شهر يوليو هو أحد شهور فصل الخريف. (المنيا ٢٠٢٣)
- ٥ - أعلى قمة في سلاسل جبال البحر الأحمر هي قمة جبل شايب البنات. (المنوفية ٢٠٢٣)

٣ اختر الإجابة الصحيحة مما بين القوسين:

- ١ - إحدى قارات العالم القديم قارة (أوروبا - أمريكا الشمالية - أمريكا الجنوبية - أستراليا) (بني سويف ٢٠٢٣)
- ٢ - تقع مدينة أسوان ضمن الإقليم (الصحراوي الحار - البحر المتوسط - المداري - الاستوائي) (أسوان ٢٠٢٣)
- ٣ - تكونت سلاسل جبال البحر الأحمر بسبب (الحركات الانكسارية - الحركات الالتوائية - التعرية الهوائية - التعرية المائية) (المنيا ٢٠٢٣)
- ٤ - إحدى الأشجار التي تنمو في الساحل الشمالي المصري (الحلفا - البوص - الكافور - التين) (البحيرة ٢٠٢٣)
- ٥ - قيام دولة ما بإزالة الغابات يعني أنها تساعد على (زيادة الطاقة - تقليل مساحة الزراعة - حدوث التغير المناخي - مواجهة التغير المناخي) (قنا ٢٠٢٣)

٤ أجب عما يأتي:

- ١ - بم تفسر: أهمية النباتات الطبيعية؟ (الإسكندرية ٢٠٢٣)
- ٢ - وضح الدور الذي قام به الملك نعرمر «ميناً» لتوحيد مصر. (القليوبية ٢٠٢٣)



١ أمامك خريطة صماء لمصر لاحظها، ثم أجب:



(الأقصر ٢٠٢٣)

١ - يشير رقم (١) إلى نهر

(أسيوط ٢٠٢٣)

٢ - يشير رقم (٢) إلى مدار

(القليوبية ٢٠٢٣)

٣ - يشير رقم (٣) إلى البحر

٢ اكتب كلمة (صواب) أمام العبارة الصحيحة، وكلمة (خطأ) أمام العبارة غير الصحيحة:

(أسوان ٢٠٢٣) ()

١ - تُعد المحميات الطبيعية مزارات سياحية.

(الجيزة ٢٠٢٣) ()

٢ - عاصمة مملكة الشمال هي نخب.

(بني سويف ٢٠٢٣) ()

٣ - دائرة العرض الرئيسية هي مدار الجدي ودرجتها (صفر°).

(المنوفية ٢٠٢٣) ()

٤ - الانفجارات البركانية أحد العوامل البشرية للتغيرات المناخية.

(البحيرة ٢٠٢٣) ()

٥ - تقع هضبة مارميكا في الصحراء الشرقية.

٣ اختر الإجابة الصحيحة مما بين القوسين:

١ - عاش المصري القديم في بداية حياته فوق

(الجبال - الهضاب - التلال - السهول) (بورسعيد ٢٠٢٣)

٢ - تتعامد الشمس في فصل الصيف على

(مدار السرطان - مدار الجدي - دائرة الاستواء - القطب الشمالي) (الشرقية ٢٠٢٣)

٣ - طائر يعيش بالقرب من الوادي والدلتا هو

(الحمام الزاجل - النورس - أبو قردان - البجع) (قنا ٢٠٢٣)

٤ - أكبر الوحدات التضاريسية وتبلغ ثلثي مساحة مصر هي

(نهر النيل والدلتا - الصحراء الشرقية - شبه جزيرة سيناء - الصحراء الغربية) (المنوفية ٢٠٢٣)

٥ - تقع مصر في الركن الشمالي الشرقي لقارة

(أوروبا - آسيا - إفريقيا - أنتاركتيكا) (القاهرة ٢٠٢٣)

٤ أجب عما يأتي:

(الدقهلية ٢٠٢٣)

١ - اكتب مقترحًا للحد من التغيرات المناخية.

(سوهاج ٢٠٢٣)

٢ - اكتب نتيجة واحدة ترتبت على هبوب رياح الخماسين.



اختبارات سلاح التلميذ على شهر أكتوبر

١٥

(يجيب عنها التلميذ)

الاختبار الأول



١ أمام خريطة صماء لمصر لاحظها ثم أجب:

- ١ - صواب أم خطأ: يشير رقم (١) لمدينة خرج منها الملك نعرمر «مينا». ()
- ٢ - يشير رقم (٢) إلى
- ٣ - صوب: يشير رقم (٣) لهضبة التيه.

٢ أكمل العبارات الآتية مستعيناً ببنك الكلمات:

(السياحة - المنخفضات - الجبال - أغسطس - العلاج)

- ١ - استخدم المصريون القدماء النباتات الطبيعية في
- ٢ - موت الشعاب المرجانية يؤثر سلبيًا
- ٣ - يضم فصل الصيف شهور يونيو ويوليو و.....
- ٤ - تتميز الصحراء الغربية عن الصحراء الشرقية بانتشار

٣ اكتب كلمة (صواب) أمام العبارة الصحيحة، وكلمة (خطأ) أمام العبارة غير الصحيحة:

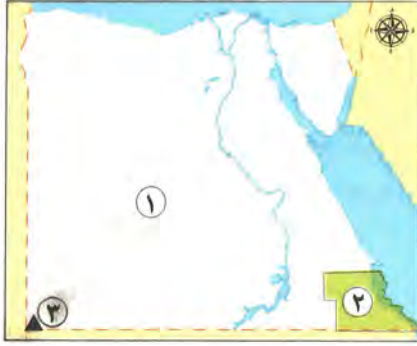
- ١ - خطوط الطول عبارة عن أنصاف دوائر رأسية تصل بين القطبين. ()
- ٢ - انتصر الملك تحتمس الثالث على أمير قادش في معركة مجدو. ()
- ٣ - تؤدي التغيرات المناخية إلى تآكل السواحل الشمالية لمصر. ()

٤ اختر الإجابة الصحيحة مما بين القوسين:

- ١ - تعود بردية هيرست الطبية إلى عصر الملك
- (أمنحيب الأول - مينا - تحتمس الثالث - خوفو)
- ٢ - أعلى القمم الجبلية في الصحراء الشرقية هي قمة جبل
- (موسى - شايب البنات - العوينات - سانت كاترين)
- ٣ - المدينة التي تقع في إقليم البحر المتوسط المعتدل هي
- (أسوان - الأقصر - الإسكندرية - سوهاج)

٥ قارن بين: أهمية كل من خطوط الطول ودوائر العرض.





١ أمامك خريطة صماء لمصر لاحظها ثم أجب:

- ١ - يقع رقم (١) في الإقليم
- ٢ - صوب: يشير رقم (٢) لمحمية نيق.
- ٣ - يشير رقم (٣) لجبل

٢ أكمل العبارات الآتية مستعيناً ببنك الكلمات:

(مدار الجدي - دائرة الاستواء - أون هليوبوليس - شمال سيناء - البحر الأحمر)

- ١ - تقع محمية الزرائق في محافظة
- ٢ - دائرة العرض الرئيسية هي
- ٣ - يحدث فصل الشتاء في مصر عند تعامد الشمس على
- ٤ - أول عاصمة لمصر أثناء الوحدة الأولى كانت مدينة

٣ اكتب كلمة (صواب) أمام العبارة الصحيحة، وكلمة (خطأ) أمام العبارة غير الصحيحة:

- ١ - تقع مصر غرب خط جرينتش. ()
- ٢ - نهر النيل هو أحد العوامل الطبيعية لنشأة الحضارة المصرية القديمة. ()
- ٣ - الإفراط في استخدام المبيدات الحشرية يؤدي لتغيير المناخ. ()

٤ اختر الإجابة الصحيحة مما بين القوسين:

- ١ - نبات صحراوي يتحمل الجفاف
(الصبار - التوت - الكافور - الزيتون)
- ٢ - تضم شبه جزيرة سيناء العديد من الأدوية الجافة منها وادي
(قنا - العلاقي - العريش - الأسيوطي)
- ٣ - تهب رياح الخماسين في فصل
(الصيف - الشتاء - الربيع - الخريف)

٥ أجب عما يأتي:

- أ وضع: أحد جهود الدولة لمواجهة تأثيرات التغير المناخي.
- ب ما النتائج المترتبة على: اتصال نهر النيل بترعة بحر يوسف؟



اختبارات 2023 الاختبار ١

١٥

السؤال الأول أكمل العبارات التالية من بنك الكلمات:

(المتوسط - الطوب اللبن - الأحمر - الصحراوي الحار)

- ١ تقع معظم الأراضي المصرية في الإقليم المناخي
- ٢ بنى المصري القديم مسكنه من
- ٣ يصب وادي العريش في البحر

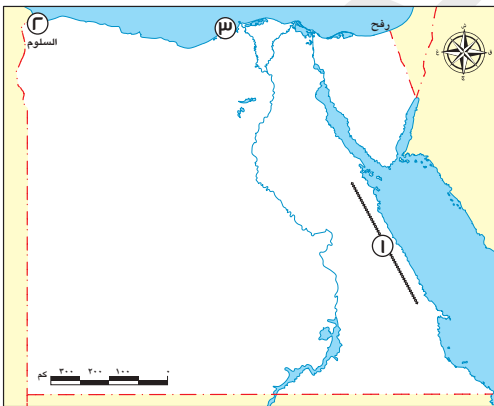
السؤال الثاني اكتب كلمة (صواب) أمام العبارة الصحيحة، وكلمة (خطأ) أمام العبارة غير الصحيحة:

- ١ ترتفع الحرارة درجة واحدة كلما ارتفعنا ١٥٠ مترًا عن سطح البحر. ()
- ٢ استخدم المصريون القدماء النباتات الطبيعية في العلاج. ()
- ٣ يؤدي زيادة التلوث إلى تغيير حالة المناخ. ()
- ٤ يُعتبر نهر النيل أقصر أنهار العالم. ()

السؤال الثالث اختر الإجابة الصحيحة مما بين القوسين:

- ١ دائرة العرض التي تمر داخل الأراضي المصرية هي
(دائرة الاستواء - مدار الجدي - مدار السرطان - الدائرة القطبية)
- ٢ يتصل منخفض الفيوم بنهر النيل عن طريق ترعة
(الإسماعيلية - المحمودية - بحر يوسف - الإبراهيمية)
- ٣ الملك الذي وحد مصر عام ٣٢٠٠ ق.م هو
(تحتس الثالث - مينا - خوفو - خفرع)

السؤال الرابع لاحظ الخريطة، ثم أجب:



- ١ يشير رقم (١) إلى سلاسل جبال
- ٢ تشرق الشمس أولاً على مدينة **السلوم**. (صوب)
- ٣ تقع المدينة رقم (٣) في إقليم

السؤال الخامس أجب عما يلي:

- ١ قارن بين دوائر العرض وخطوط الطول من حيث الأهمية.
- ٢ حدد اثنين من الإنجازات السياسية والعسكرية للملك تحتس الثالث.





الشمس

السؤال الأول أكمل العبارات التالية من بنك الكلمات:

(الشتاء - بناء الأهرامات - الأحمر - المتوسط - جرينتش)

- ١ سمي عصر الدولة القديمة بعصر
- ٢ خط الطول الرئيسي هو خط
- ٣ يصب نهر النيل في البحر
- ٤ يعبر الشكل التالي عن فصل

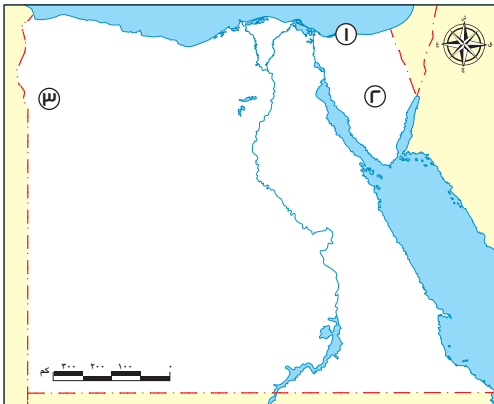
السؤال الثاني اكتب كلمة (صواب) أمام العبارة الصحيحة، وكلمة (خطأ) أمام العبارة غير الصحيحة:

- ١ تنتشر النباتات الحولية في الساحل الشمالي على البحر المتوسط. ()
- ٢ تقع مصر في قلب قارات العالم الجديد. ()
- ٣ تعد مدينة "أون" أول عاصمة لمصر الموحدة عام ٢٤٢ ق.م. ()

السؤال الثالث اختر الإجابة الصحيحة مما بين القوسين:

- ١ مؤسس أول أسرة حاكمة في تاريخ مصر القديمة هو الملك
(خوفو - مينا - أحمس - خفرع)
- ٢ قد يؤدي ارتفاع منسوب مياه البحر المتوسط إلى غرق سواحل مدينة
(أسوان - الغردقة - الإسكندرية - سفاجا)
- ٣ الملك الذي انتصر على حاكم قادش في معركة مجدو هو
(مينا - سنوسرت الثالث - أحمس - تحتمس الثالث)

السؤال الرابع لاحظ الخريطة التالية، ثم أجب عن الأسئلة:



- ١ محمية
- ٢ صوب ما تحته خط:
- يشير رقم (٢) بالخريطة إلى هضبة العبادة.
- ٣ واحة

السؤال الخامس أجب عما يلي:

- ١ قارن بين مملكة الشمال ومملكة الجنوب من حيث: العاصمة - لون التاج - الشعار.
- ٢ وضح الآثار المترتبة على تغير المناخ في محافظتك.



السؤال الأول أكمل العبارات التالية من بنك الكلمات:

(لوحة نارمر - الجنوب - الأسمت - الشمال)

- ١ قامت الوحدة الأولى في مصر عام ٤٢٤٢ ق.م بزعامة مملكة
- ٢ إحدى الصناعات التي تؤثر في تغير المناخ هي صناعة
- ٣ سجل الملك مينا انتصاراته على

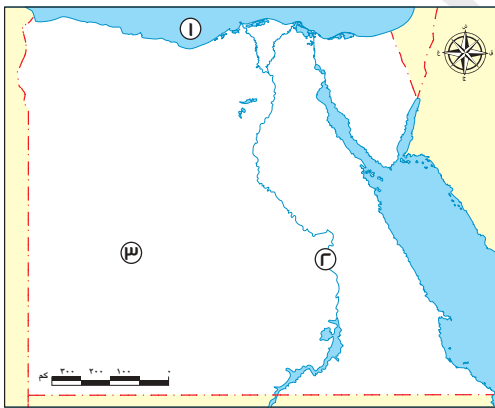
السؤال الثاني اكتب كلمة (صواب) أمام العبارة الصحيحة، وكلمة (خطأ) أمام العبارة غير الصحيحة:

- ١ تهب رياح الخماسين على مصر في فصل الربيع. ()
- ٢ يمكننا رؤية نبات الحلفا في الصحاري المصرية. ()
- ٣ تقع مصر بين خطي طول ٢٥° و ٣٧° شرق خط جرينتش. ()

السؤال الثالث اختر الإجابة الصحيحة مما بين القوسين:

- ١ دائرة العرض الرئيسية هي
(دائرة الاستواء - مدار السرطان - مدار الجدي - الدائرة القطبية)
- ٢ أحد العوامل الطبيعية التي ساعدت على قيام ازدهار الحضارة المصرية القديمة
(الجيش - الوحدة - نهر النيل - الحكومة المركزية)
- ٣ هضبة تقع جنوب الصحراء الغربية هي
(مارميكا - الجلف الكبير - العباددة - التيه)
- ٤ يحل علينا فصل الصيف عندما تتعامد الشمس على
(مدار الجدي - مدار السرطان - دائرة الاستواء - خط جرينتش)

السؤال الرابع لاحظ الخريطة التالية، ثم أجب عن الأسئلة:

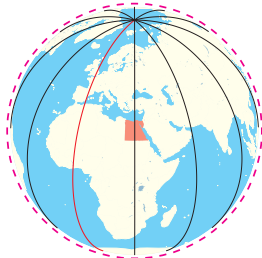


(صوب ما تحته خط)

- ١ البحر
- ٢ مدينة خرج منها الملك مينا
- ٣ يقع رقم (٣) الإقليم المناخي **المعتدل**.

السؤال الخامس أجب عما يلي:

- ١ ما العلاقة بين منخفضات الصحراء الغربية - التعرية الهوائية والمائية؟
- ٢ حدد أهمية الخطوط المرسومة على هذا الشكل.



إجابة الاختبار ١

السؤال الأول:

١ الصحراوي الحار.

السؤال الثاني:

١ خطأ.

٣ صواب.

السؤال الثالث:

١ مدار السرطان.

السؤال الرابع:

١ البحر الأحمر.

٣ البحر المتوسط المعتدل.

السؤال الخامس:

١

خطوط الطول	دوائر العرض
- تحديد المواقع شرقاً وغرباً.	- تحديد المواقع شمالاً وجنوباً.
- تحديد الزمن ومعرفة فرق التوقيت.	- معرفة أحوال المناخ.

٢ إجابة استرشادية.

- قاد العديد من الحملات العسكرية من أشهرها معركة مجدو ضد حاكم قادش.

- استطاع أن يمد حكم مصر حتى بلاد النوبة جنوباً.

إجابة الاختبار ٢

السؤال الأول:

١ بناء الأهرامات.

٣ المتوسط.

السؤال الثاني:

١ صواب.

السؤال الثالث:

١ مينا.

٢ جرينتش.

٤ الشتاء.

٢ خطأ.

٢ الإسكندرية.

٣ صواب.

٣ تحتمس الثالث.



السؤال الرابع:

١ الزرانيق.

٣ سيوة.

٢ التيه.

السؤال الخامس:

١

وجه المقارنة	مملكة الشمال	مملكة الجنوب
العاصمة	- بوتو	- نخب
لون التاج	- أحمر	- أبيض
الشعار	- نبات البردي	- زهرة اللوتس

٢ إجابة استرشادية.

- ارتفاع درجة الحرارة في فصل الصيف عن المعتاد.

- تساقط الثلوج في فصل الشتاء.

إجابة الاختبار ٣

السؤال الأول:

١ الشمال.

٣ لوحة نارمر.

٢ الأسمت.

السؤال الثاني:

١ صواب.

٣ صواب.

٢ خطأ.

السؤال الثالث:

١ دائرة الاستواء.

٢ نهر النيل.

٣ الجلف الكبير.

٤ مدار السرطان.

السؤال الرابع:

١ المتوسط.

٣ الصحراوي الحار.

٢ مدينة طيبة.

السؤال الخامس:

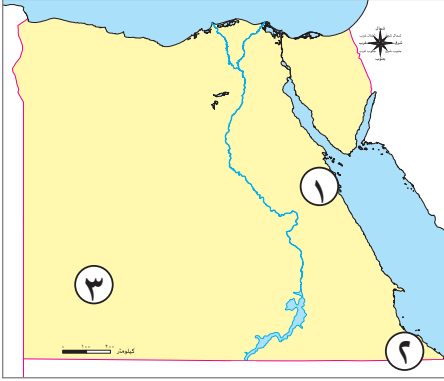
١ تكونت منخفضات الصحراء الغربية نتيجة عمليات التعرية الهوائية والمائية.

٢ تحديد المواقع شرقًا وغربًا، تحديد الزمن ومعرفة فرق التوقيت بين الأماكن المختلفة.



السؤال الأول

(١) أمامك خريطة صماء لمصر، اكتب مدلول الأرقام التالية:



- ١ جبل
- ٢ محمية
- ٣ هضبة

(ب) ما النتائج المترتبة على...؟

- هبوب رياح الخماسين على مصر في فصل الربيع.

السؤال الثاني

اختر الإجابة الصحيحة مما بين الأقواس:

- ١ أى من العوامل التالية ساعد على الحفاظ على الآثار المصرية القديمة؟
(نهر النيل - جيش قوى - تنوع المحاصيل - مناخ مصر)
- ٢ يقع البحر الأحمر في مصر جهة
(الشمال - الجنوب - الشرق - الغرب)
- ٣ إذا أردت مشاهدة أشجار الجميز يمكنك الذهاب إلى محافظة
(الفيوم - شمال سيناء - جنوب سيناء - مطروح)
- ٤ تتشابه كل من خطوط الطول ودوائر العرض في أنها تستخدم في تحديد
(المناخ - الوقت - الموقع - السطح)
- ٥ تصل مياه نهر النيل إلى منخفض الفيوم عن طريق ترعة
(الإسماعيلية - المريوطية - بحريوسف - بحرقزوين)

السؤال الثالث

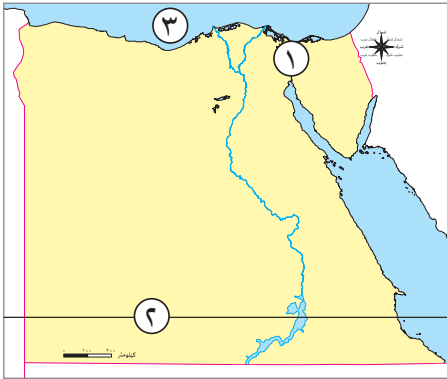
أكمل العبارات الآتية بما يناسبها من كلمات مما بين القوسين:

(وادي العلاقي - الاستواء - نهر عطبرة - الهضاب - البحر - جرينتش - وادي العريش)

- ١ عاش المصري القديم في بداية حياته فوق.....
- ٢ من روافد نهر النيل في منطقة إثيوبيا.....
- ٣ يعرف خط الطول الرئيسي بخط
- ٤ من الأودية الجافة التي تقع في الصحراء الشرقية
- ٥ زيادة نسبة التغير المناخي تؤدي إلى ارتفاع منسوب مياه

نموذج (٢)

السؤال الأول



(١) أمامك خريطة صماء لمصر، اكتب مدلول الأرقام التالية:

- ١ يشير رقم (١) إلى ممر ملاحى
- ٢ يشير رقم (٢) إلى مدار
- ٣ يشير رقم (٣) إلى البحر

(ب) بم تفسر...؟

- أهمية دوائر العرض.

السؤال الثانى

اكتب كلمة (صواب) أمام العبارة الصحيحة، وكلمة (خطأ) أمام العبارة غير الصحيحة:

- ١ تقع معظم أراضي الدولة المصرية ضمن إقليم البحر المتوسط . ()
- ٢ تفيد دوائر العرض في حساب الوقت بين مدينتين . ()
- ٣ تحلية مياه البحر من الوسائل التى اتخذتها مصر لمواجهة التغيرات المناخية . ()
- ٤ اهتم ملوك الدولة الوسطى بخوض العديد من المعارك الحربية . ()
- ٥ استخدم المصريون القدماء النباتات الطبيعية في علاج بعض الأمراض . ()

السؤال الثالث

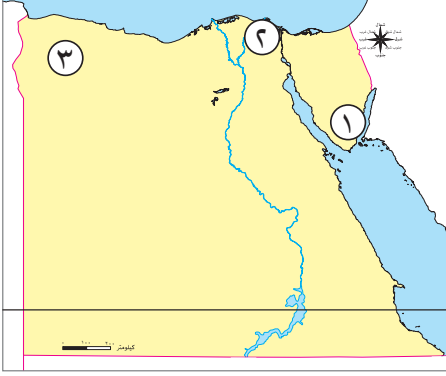
اختر الإجابة الصحيحة مما بين القوسين:

- ١ تساعد خطوط الطول في تحديد (المناخ - الوقت - الفصل - الشهر)
- ٢ أى من المحافظات المصرية التالية تأثرت إيجابياً بحفر قناة السويس؟ (بورسعيد - القاهرة - مطروح - الغردقة)
- ٣ عاش المصرى القديم في بداية حياته فوق (الجبال - الهضاب - التلال - السهول)
- ٤ تتساقط الثلوج على الجبال العالية مثل جبل كاترين في فصل (الصيف - الخريف - الشتاء - الربيع)
- ٥ أى من المحميات المصرية الآتية تعد المحطة الأولى لرحلة الطيور المهاجرة من أوروبا وآسيا؟ (الزرانيق - رأس محمد - أشتوم الجميل - نبق)

نموذج (٣)

السؤال الأول

أمامك خريطة صماء لمصر، اكتب مدلول الأرقام التالية:



- ١ محمية
- ٢ فرع
- ٣ هضبة

السؤال الثاني

اختر الإجابة الصحيحة مما بين القوسين:

- ١ الموقع الفلكي هو موقع المكان بالنسبة ل.....
(خطوط الطول ودوائر العرض - الحدود الإدارية - قارات العالم القديم - اليابس والماء)
- ٢ مجارٍ مائية كانت تملؤها المياه قديمًا ثم جفت
(النهر - الهضبة - الأودية الجافة - الجبال)
- ٣ تقع مدينة ضمن إقليم البحر المتوسط .
(مرسى مطروح - الأقصر - قنا - أسيوط)
- ٤ من أهم الحيوانات المهددة بالانقراض في مصر
(الغزلان - النعام - الأبقار - الخراف)
- ٥ من الأسباب الطبيعية في التغيرات المناخية
(حرق الوقود - إزالة الغابات - الانفجارات البركانية - صناعة الأسمت)

السؤال الثالث

اكتب كلمة (صواب) أمام العبارة الصحيحة، وكلمة (خطأ) أمام العبارة غير الصحيحة:

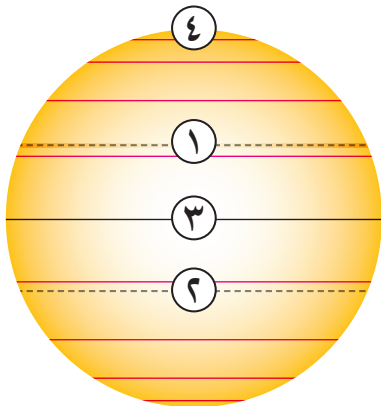
- ١ اهتم ملوك عصر الدولة القديمة بتشييد أهرامات ضخمة. ()
- ٢ تتعامد الشمس على مدار السرطان في فصل الشتاء. ()
- ٣ ينقسم سطح مصر إلى ثلاث وحدات تضاريسية. ()
- ٤ تعد المحميات الطبيعية مزارات سياحية. ()
- ٥ ضعف وموت الشعب المرجانية هو إحدى نتائج التغير المناخي. ()

نموذج (٤)

السؤال الأول

(أ) لاحظ الرسم المقابل، ثم اكتب ما يشير إليه كل رقم:

- ١ مدار.....
- ٢ مدار.....
- ٣ دائرة.....
- ٤ منطقة القطب.....



(ب) فسر: تسمية عصر الدولة القديمة بعصر بناة الأهرامات.

السؤال الثاني

اختر الإجابة الصحيحة مما بين القوسين:

- ١ أى من المظاهر التضاريسية الآتية يقع داخل الصحراء الغربية؟.....
(هضبة الجلف الكبير - وادى العلاقي - جبل موسى - هضبة التيه)
- ٢ كان الملك مينا قبل تحقيقه الوحدة حاكمًا لمدينة.....
(طيبة - نخب - بوتو - أون)
- ٣ تحدث ظاهرة تآكل الشواطئ في الجهات الشمالية من.....
(منخفض الفيوم - الدلتا - هضبة العباودة - جبل كاترين)
- ٤ أكثر جهات شبه جزيرة سيناء ارتفاعًا هي الجهة.....
(الشمالية - الغربية - الجنوبية - الشرقية)
- ٥ تقع محمية الزرانيق في محافظة.....
(شمال سيناء - جنوب سيناء - دمياط - بورسعيد)

السؤال الثالث

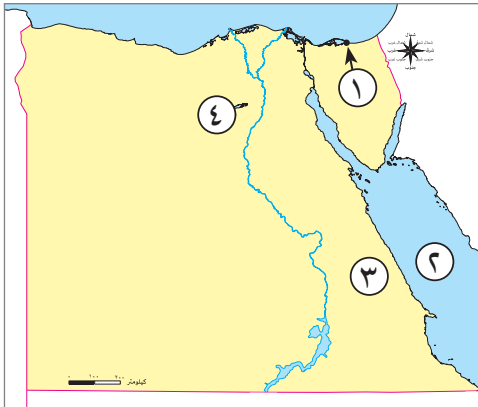
اكتب كلمة (صواب) أمام العبارة الصحيحة، وكلمة (خطأ) أمام العبارة غير الصحيحة فيما يلي:

- ١ الجيش من العوامل الطبيعية لقيام الحضارة المصرية القديمة. ()
- ٢ يتشابه خط جرينتش ودائرة الاستواء في الدرجة « صفر ». ()
- ٣ الكافور من النباتات المائية التي تنمو في مصر. ()
- ٤ يقع مدار الجدى في نصف الكرة الجنوبي. ()
- ٥ زيادة حدة التغير المناخي تؤدي إلى ارتفاع منسوب المياه العذبة. ()

نموذج (هـ)

السؤال الأول

(أ) أمامك خريطة صماء لمصر، اكتب مدلول الأرقام عليها:



- ١ محمية
- ٢ البحر
- ٣ الصحراء
- ٤ منخفض

(ب) دلل على صحة العبارة التالية:

- أسهم نهر النيل في قيام الحضارة المصرية القديمة.

السؤال الثاني

اكتب كلمة (صواب) أمام العبارة الصحيحة، وكلمة (خطأ) أمام العبارة غير الصحيحة فيما يلي:

- ١ لكوكب الأرض دورتان: دورة يومية حول محورها، وأخرى سنوية حول الشمس. ()
- ٢ تقع مصر شمال شرق إفريقيا وهي ملتقى قارات العالم القديم. ()
- ٣ تؤثر التغيرات المناخية على السياحة في مصر. ()
- ٤ يعد الفهد المصرى أحد الحيوانات المهددة بالانقراض. ()
- ٥ يكون النهار أطول من الليل في فصل الشتاء. ()

السؤال الثالث

أكمل العبارات التالية باختيار الكلمات المناسبة من بين القوسين:

(الصحراوى الحار - الصحراء الشرقية - الوقود الأحفورى - الربيع - أبيض)

- ١ كان لون التاج الخاص بمملكة الجنوب.....
- ٢ تعد هضبة العباددة جزءاً من
- ٣ تهب رياح الخماسين في مصر في فصل
- ٤ معظم الأراضى المصرية تقع ضمن الإقليم
- ٥ يحدث التغير المناخي نتيجة الأنشطة البشرية مثل حرق

إجابة نموذج (١)

السؤال الأول

(أ)

١ شايب البنات.

٢ جبل علبة.

٣ الجلف الكبير.

(ب)

تأتي رياح محملة بالرمال والأتربة تتسبب في إصابة الإنسان ببعض الأمراض، مثل: أمراض الجهاز التنفسي، وكذلك تلف المحاصيل الزراعية.

السؤال الثاني

١ مناخ مصر.

٢ الشرق.

٣ الفيوم.

٤ الموقع.

٥ بحريوسف.

السؤال الثالث

١ الهضاب.

٢ نهر عطبرة.

٣ جرينتش.

٤ وادي العلاقي.

٥ البحر.

إجابة نموذج (٢)

السؤال الأول

(أ)

١ قناة السويس.

٢ السرطان.

٣ المتوسط.

(ب)

تفيدنا في : تحديد مواقع الأماكن شمالاً وجنوباً - معرفة أحوال المناخ من حيث الحرارة والرياح والأمطار.

السؤال الثاني

١ (خطأ)

٢ (خطأ)

٣ (صواب)

٤ (خطأ)

٥ (صواب)

السؤال الثالث

١ الوقت.

٢ بورسعيد.

٣ الهضاب.

٤ الشتاء.

٥ الزرائق.

إجابة نموذج (٣)

السؤال الأول

- ١ نبق .
- ٢ دمياط .
- ٣ مارمريكا .

السؤال الثاني

- ١ خطوط الطول ودوائر العرض .
- ٢ الأودية الجافة .
- ٣ مرسى مطروح .
- ٤ الغزلان .
- ٥ الانفجارات البركانية .

السؤال الثالث

- ١ (صواب)
- ٢ (خطأ)
- ٣ (خطأ)
- ٤ (صواب)
- ٥ (صواب)

إجابة نموذج (٤)

(أ)

- ١ السرطان.
- ٢ الجدى.
- ٣ الاستواء.
- ٤ الشمالى.

(ب) نسبة إلى ما شيده الملوك من اهرامات ضخمة.

السؤال الثانى

- ١ هضبة الجلف الكبير.
- ٢ طيبة.
- ٣ الدلتا.
- ٤ الجنوبية.
- ٥ شمال سيناء.

السؤال الثالث

- ١ (خطأ)
- ٢ (صواب)
- ٣ (خطأ)
- ٤ (صواب)
- ٥ (خطأ)

إجابة نموذج (هـ)

السؤال الأول

(١)

١ الزرانيق.

٢ الأحمر.

٣ الشرقية.

٤ الفيوم.

(ب) ساعد نهر النيل على قيام الزراعة واستقرار المصرى القديم.

السؤال الثانى

١ (صواب)

٢ (صواب)

٣ (صواب)

٤ (صواب)

٥ (خطأ)

السؤال الثالث

١ أبيض.

٢ الصحراء الشرقية .

٣ الربيع.

٤ الصحراوى الحار.

٥ الوقود الأحفورى.



السؤال الأول: (١) أمامك خريطة صماء لمصر، اكتب مدلول الأرقام عليها:



- ١- دائرة عرض تمر بجنوب مصر
- ٢- هضبة
- ٣- الصحراء
- ٤- أحد فرعى النيل

(ب) فسر:

- تسمية عصر الدولة القديمة بعصر بناة الأهرام.

السؤال الثاني: (١) أكمل العبارات الآتية:

- ١- خطوط وهمية ترسم على الخريطة وتساعدنا فى تحديد الزمن هى
- ٢- من العوامل الطبيعية التى ساهمت فى قيام الحضارة المصرية القديمة و
- ٣- من الأودية الجافة التى تقع فى الصحراء الشرقية

(ب) أجب عن الأسئلة الآتية:

١- ما العلاقة بين: التغيرات المناخية والشواطئ المصرية؟

٢- دلل: حقق المصريون القدماء إنجازات فى العلاج.

السؤال الثالث: (١) اختر الإجابة الصحيحة مما بين القوسين:

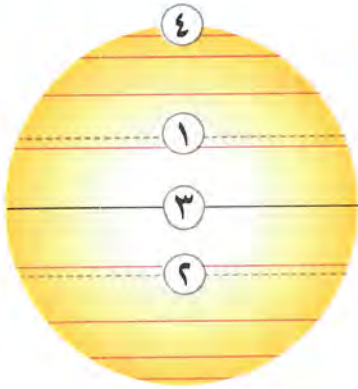
- ١- أى من المظاهر التضاريسية الآتية يقع داخل الصحراء الغربية؟
- (هضبة الجلف الكبير - وادى العلاقى - جبل موسى - هضبة التيه)
- ٢- كان الملك مينا قبل تحقيقه الوحدة حاكمًا لمدينة
- (طيبة - نخب - بوتو - أون)
- ٣- خط الطول الرئيسى يسمى
- (جرينتش - السرطان - الجدى - الاستواء)

(ب) أجب عن الأسئلة الآتية:

١- اذكر نتيجة واحدة ل: دوران الأرض حول الشمس مرة كل ٣٦٥ يومًا وربع يوم.

٢- ما مقترحاتك للاستفادة من المحميات الطبيعية فى مصر؟





السؤال الأول (١) لاحظ الرسم المقابل، ثم اكتب ما يشير إليه كل رقم:

١- مدار

٢- مدار

٣- دائرة

٤- منطقة القطب

(ب) ما العلاقة بين...؟

- موقع مصر الفلكي والأقاليم المناخية.

السؤال الثاني: (١) اختر الإجابة الصحيحة مما بين القوسين:

١- من أهم الحيوانات المهددة بالانقراض في مصر

(الغزلان - النعام - الأبقار - الخراف)

٢- تحدث ظاهرة تآكل الشواطئ في الجهات الشمالية من

(منخفض الفيوم - الدلتا - هضبة العبادية - جبل كاترين)

٣- أكثر جهات شبه جزيرة سيناء ارتفاعاً هي الجهة

(الشمالية - الغربية - الجنوبية - الشرقية)

(ب) أجب عن الأسئلة الآتية:

١- اذكر نتيجة واحدة ل: هبوب رياح الخماسين.

٢- اذكر سبباً واحداً ل: تنوع النباتات الطبيعية في مصر.

السؤال الثالث: (١) صوب ما تحته خط:

١- سكن المصري القديم قبل نزوله وادى النيل البيوت.

٢- أكبر دوائر العرض هي مدار الجدى.

٣- تقع محمية جبل عُلبة شمال شرق مصر.

(ب) أجب عن السؤالين الآتيين:

١- قدم بعض المقترحات: التي يمكنك القيام بها لمكافحة تغير المناخ في مصر.

٢- فسر بذكر سبب واحد: الأهمية الاقتصادية للأودية الجافة.



السؤال الأول: (١) أمامك خريطة صماء لمصر، اكتب مدلول الأرقام عليها:



- ١- محمية
- ٢- هضبة
- ٣- الصحراء
- ٤- منخفض

(ب) دلل:

- النباتات الطبيعية تسهم فى تنشيط السياحة.

السؤال الثانى: (١) صوب ما تحته خط:

- ١- يعد نبات الحلفا من النباتات التى لها القدرة على تحمل الجفاف.
- ٢- يعد غاز الأكسجين من الغازات المسببة للاحتباس الحرارى.
- ٣- تنتمى مدينة أسوان إلى إقليم مناخ البحر المتوسط.

(ب) قارن بين الدورة اليومية للأرض والدورة السنوية من حيث: المدة المستغرقة خلال الحدوث والآثار المترتبة.

وجه المقارنة	الدورة اليومية	الدورة السنوية
المدة المستغرقة
الآثار المترتبة

السؤال الثالث: (١) أكمل العبارات التالية:

- ١- معظم الأراضى المصرية تقع ضمن الإقليم
- ٢- تهب رياح الخماسين فى مصر خلال فصل
- ٣- خط الطول الرئيسى يسمى خط

(ب) أجب عن السؤالين الآتيين:

١- ماذا يحدث إذا: لم تقم الدولة بإنشاء المحميات الطبيعية؟

٢- فسر بذكر سبب واحد: يواجه التنوع البيولوجى فى مصر عددًا من الأخطار.





السؤال الأول: (١) أمامك خريطة صماء لمصر، اكتب مدلول الأرقام عليها:



- ١- جبل
- ٢- فرع
- ٣- محمية
- ٤- هضبة

(ب) أجب عن السؤال الآتي:

- اذكر: اثنين من العوامل المؤثرة في المناخ.

السؤال الثاني: (١) ضع علامة (✓) أمام العبارة الصحيحة، وعلامة (X) أمام العبارة غير الصحيحة فيما يلي:

- ١- دوائر العرض لها أهمية في تحديد الزمن ومعرفة فروق التوقيت. ()
- ٢- الجيش من العوامل الطبيعية لقيام الحضارة المصرية القديمة. ()
- ٣- تختلف دوائر العرض في الحجم. ()

(ب) دلل:

١- تعد الجهة الجنوبية من شبه جزيرة سيناء الأكثر ارتفاعاً.

٢- أسهم نهر النيل في قيام الحضارة المصرية القديمة.

السؤال الثالث: (١) اختر الإجابة الصحيحة مما بين القوسين:

- ١- تقع محمية الزرانيق في محافظة (شمال سيناء - جنوب سيناء - دمياط - بورسعيد)
- ٢- كان لون التاج الخاص بمملكة الجنوب (أخضر - أحمر - أصفر - أبيض)
- ٣- تعد هضبة العباددة جزءاً من (الصحراء الشرقية - الصحراء الغربية - شبه جزيرة سيناء - الدلتا)

(ب) أجب عن السؤالين الآتيين:

١- ما مقترحاتك ل: الحفاظ على المحميات الطبيعية في مصر؟

٢- فسر بذكر سبب واحد: هناك عوامل طبيعية تؤثر في حدوث التغيرات المناخية.



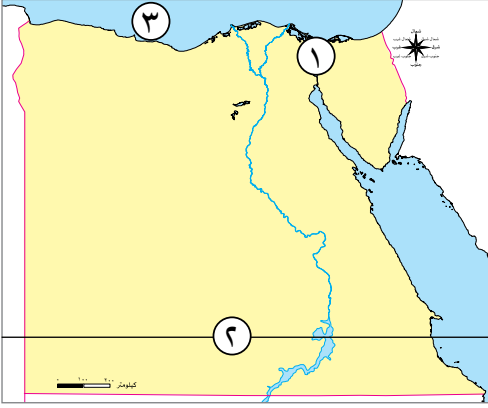
نموذج (١)

السؤال الأول

(١) أمامك خريطة صماء لمصر، اكتب مدلول الأرقام التالية:

- ١ يشير رقم (١) إلى ممر ملاحى
- ٢ يشير رقم (٢) إلى مدار
- ٣ يشير رقم (٣) إلى البحر

(ب) بم تفسر..؟ أهمية خطوط الطول.



السؤال الثانى

- اكتب كلمة (صواب) أمام العبارة الصحيحة، وكلمة (خطأ) أمام العبارة غير الصحيحة:

- ١ اهتم ملوك عصر الدولة القديمة بتشييد أهرامات ضخمة. ()
- ٢ تتعامد الشمس على مدار الجدى فى فصل الشتاء. ()
- ٣ ينقسم سطح مصر إلى ثلاث وحدات تضاريسية. ()
- ٤ تعد المحميات الطبيعية مزارات سياحية. ()
- ٥ الانفجار البركانى من العوامل البشرية لحدوث التغير المناخى. ()

السؤال الثالث

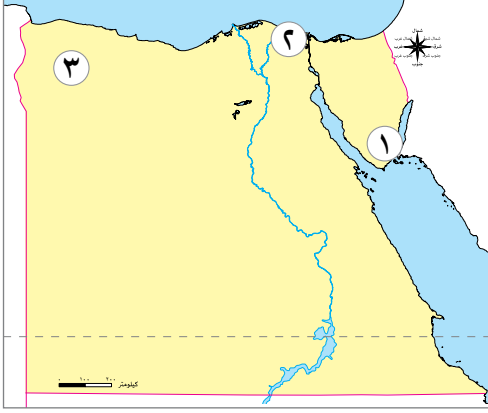
- اختر الإجابة الصحيحة مما بين القوسين:

- ١ تفيد دوائر العرض فى معرفة (الوقت - المناخ - التضاريس - اليوم)
- ٢ أى من المدن المصرية التالية تأثرت إيجابياً بحفر قناة السويس؟ (بورسعيد - القاهرة - مطروح - الغردقة)
- ٣ عاش المصرى القديم فى بدايه حياته فوق (الجبال - الهضاب - التلال - السهول)
- ٤ تتساقط الثلوج على الجبال العالية مثل جبل كاترين فى فصل (الصيف - الخريف - الشتاء - الربيع)
- ٥ أى من المحميات المصرية الآتية تعد المحطة الأولى لرحلة الطيور المهاجرة من أوروبا وآسيا؟ (الزرانيق - رأس محمد - أشتوم الجميل - نبق)

نموذج (٢)

السؤال الأول

(١) أمامك خريطة صماء لمصر، اكتب مدلول الأرقام عليها:



- ١ محمية
- ٢ فرع
- ٣ هضبة

(ب) ما النتائج المترتبة على...؟ هبوب رياح الخماسين على مصر في فصل الربيع.

السؤال الثاني

- ضع علامة (✓) أمام العبارة الصحيحة، وعلامة (X) أمام العبارة غير الصحيحة:

- ١ تعرف الاختلافات والتحولت في الأحوال المناخية بالتنوع البيولوجي . ()
- ٢ لكوكب الأرض دورتان؛ دورة يومية حول محورها؛ وأخرى سنوية حول الشمس. ()
- ٣ الكافور من النباتات المائية التي تنمو بمصر. ()
- ٤ ساعد تنوع الصخور في مصر القديمة على قيام المعابد ونحت التماثيل . ()
- ٥ الموقع الفلكي هو الموقع بالنسبة لخطوط الطول ودوائر العرض. ()

السؤال الثالث

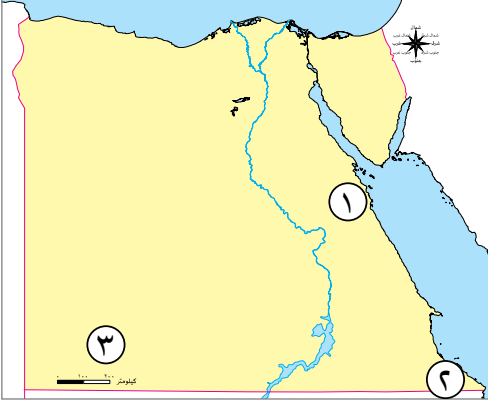
- اختر الإجابة الصحيحة مما بين الأقواس:

- ١ أي من العوامل التالية ساعد على الحفاظ على الآثار المصرية القديمة؟
(نهر النيل - جيش قوى - تنوع المحاصيل - مناخ مصر)
- ٢ يقع البحر الأحمر في مصر جهة
(الشمال - الجنوب - الشرق - الغرب)
- ٣ إذا أردت مشاهدة أشجار الجميز يمكنك الذهاب إلى محافظة
(الفيوم - شمال سيناء - جنوب سيناء - مطروح)
- ٤ تتشابه كل من خطوط الطول ودوائر العرض في أنها تستخدم في تحديد
(المناخ - الوقت - الموقع - السطح)
- ٥ تصل مياه نهر النيل إلى منخفض الفيوم عن طريق ترعة
(الإسماعيلية - المريوطية - بحريوسف - بحرقزون)

نموذج (٣)

السؤال الأول

(١) أمامك خريطة صماء لمصر، اكتب مدلول الأرقام التالية:



- ١ جبل
- ٢ محمية
- ٣ هضبة

(ب) اذكر: اثنين من العوامل المؤثرة في المناخ.

السؤال الثاني

- أكمل العبارات الآتية بما يناسبها من كلمات مما بين القوسين:

(وادى العلاقي - الاستواء - نهر عطبرة - الهضاب - البحر - جرينتش - وادى العريش)

- ١ عاش المصرى القديم في بداية حياته فوق
- ٢ من روافد نهر النيل في منطقة إثيوبيا
- ٣ يعرف خط الطول الرئيسى بخط
- ٤ من الأودية الجافة التى تقع في الصحراء الشرقية
- ٥ زيادة نسبة التغير المناخي تؤدي إلى ارتفاع منسوب مياه

السؤال الثالث

- اكتب كلمة (صواب) أمام العبارة الصحيحة، وكلمة (خطأ) أمام العبارة غير الصحيحة:

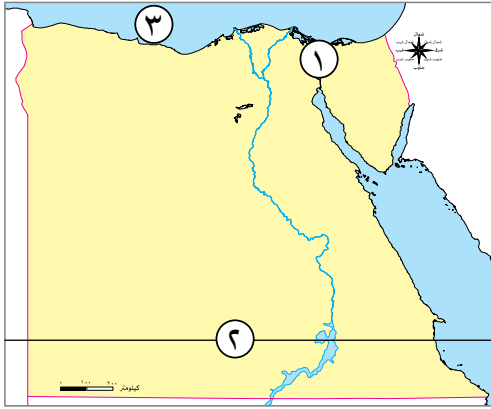
- ١ تقع معظم أراضي الدولة المصرية ضمن إقليم البحر المتوسط . ()
- ٢ تفيد دوائر العرض في حساب الوقت بين مدينتين . ()
- ٣ تحلية مياه البحر من الوسائل التي اتخذتها مصر لمواجهة التغيرات المناخية . ()
- ٤ اهتم ملوك الدولة الوسطى بحوض العديد من المعارك الحربية . ()
- ٥ استخدم المصريون القدماء النباتات الطبيعية في علاج بعض الأمراض . ()

إجابة نموذج (١)

السؤال الأول

(١) أمامك خريطة صماء لمصر، اكتب مدلول الأرقام التالية:

- ١ يشير رقم (١) إلى ممر ملاحى (قناة السويس)
- ٢ يشير رقم (٢) إلى مدار (السرطان)
- ٣ يشير رقم (٣) إلى البحر (المتوسط)



(ب) بم تفسر..؟ أهمية خطوط الطول.

- تحديد الموقع على سطح الأرض شرقاً وغرباً.
- تحديد الزمن ومعرفة فروق التوقيت بين الأماكن على سطح الأرض.

السؤال الثاني

- اكتب كلمة (صواب) أمام العبارة الصحيحة، وكلمة (خطأ) أمام العبارة غير الصحيحة:

- ١ اهتم ملوك عصر الدولة القديمة بتشييد أهرامات ضخمة. (صواب)
- ٢ تتعامد الشمس على مدار الجدى في فصل الشتاء. (صواب)
- ٣ ينقسم سطح مصر إلى ثلاث وحدات تضاريسية. (خطأ)
- ٤ تعد المحميات الطبيعية مزارات سياحية. (صواب)
- ٥ الانفجار البركاني من العوامل البشرية لحدوث التغير المناخي. (خطأ)

السؤال الثالث

- اختر الإجابة الصحيحة مما بين القوسين:

- ١ تفيد دوائر العرض في معرفة (الوقت - المناخ - التضاريس - اليوم)
- ٢ أى من المدن المصرية التالية تأثرت إيجابياً بحفر قناة السويس؟ (بورسعيد - القاهرة - مطروح - الغردقة)
- ٣ عاش المصرى القديم في بدايه حياته فوق (الجبال - الهضاب - التلال - السهول)
- ٤ تتساقط الثلوج على الجبال العالية مثل جبل كاترين في فصل (الصيف - الخريف - الشتاء - الربيع)
- ٥ أى من المحميات المصرية الآتية تعد المحطة الأولى لرحلة الطيور المهاجرة من أوروبا وآسيا؟ (الزراينق - رأس محمد - أشنوم الجميل - نبق)

إجابة نموذج (٢)

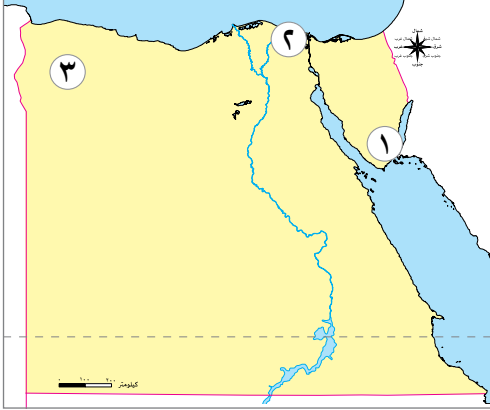
السؤال الأول

(أ) أمامك خريطة صماء لمصر، اكتب مدلول الأرقام عليها:

١ محمية (نبق)

٢ فرع (دمياط)

٣ هضبة (مارمرিকা)



(ب) ما النتائج المترتبة على...؟ هبوب رياح الخماسين على مصر في فصل الربيع.

- تأتي محملة بالرمال والأتربة وتتسبب في إصابة الإنسان ببعض الأمراض، مثل: أمراض الجهاز التنفسي، وكذلك تلف المحاصيل الزراعية.

السؤال الثاني

- ضع علامة (✓) أمام العبارة الصحيحة، وعلامة (X) أمام العبارة غير الصحيحة:

- ١ تعرف الاختلافات والتحويلات في الأحوال المناخية بالتنوع البيولوجي . (X)
- ٢ لكوكب الأرض دورتان؛ دورة يومية حول محورها؛ وأخرى سنوية حول الشمس . (✓)
- ٣ الكافور من النباتات المائية التي تنمو بمصر . (X)
- ٤ ساعد تنوع الصخور في مصر القديمة على قيام المعابد ونحت التماثيل . (✓)
- ٥ الموقع الفلكي هو الموقع بالنسبة لخطوط الطول ودوائر العرض . (✓)

السؤال الثالث

- اختر الإجابة الصحيحة مما بين الأقواس:

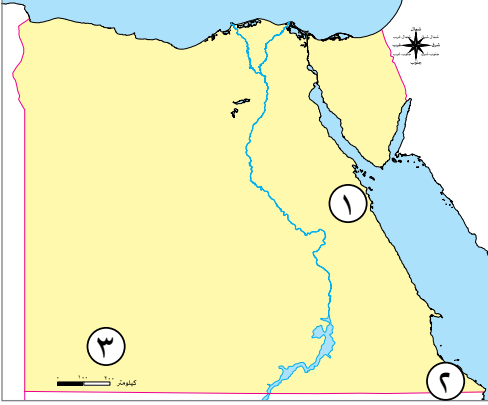
- ١ أي من العوامل التالية ساعد على الحفاظ على الآثار المصرية القديمة؟
(نهر النيل - جيش قوى - تنوع المحاصيل - مناخ مصر)
- ٢ يقع البحر الأحمر في مصر جهة
(الشمال - الجنوب - الشرق - الغرب)
- ٣ إذا أردت مشاهدة أشجار الجميز يمكنك الذهاب إلى محافظة
(الفيوم - شمال سيناء - جنوب سيناء - مطروح)
- ٤ تتشابه كل من خطوط الطول ودوائر العرض في أنها تستخدم في تحديد
(المناخ - الوقت - الموقع - السطح)
- ٥ تصل مياه نهر النيل إلى منخفض الفيوم عن طريق ترعة
(الإسماعيلية - المريوطية - بحريوسف - بحر قزوين)

إجابة نموذج (٣)

السؤال الأول

(أ) أمامك خريطة صماء لمصر، اكتب مدلول الأرقام التالية:

- ١ جبل (شايب البنات)
- ٢ محمية (جبل علبة)
- ٣ هضبة (الجلف الكبير)



(ب) اذكر: اثنين من العوامل المؤثرة في المناخ.

- القرب أو البعد من المسطحات المائية - الموقع الفلكي.

السؤال الثاني

- أكمل العبارات الآتية بما يناسبها من كلمات مما بين القوسين:

(وادى العلاقي - الاستواء - نهر عطبرة - الهضاب - البحر - جرينتش - وادى العريش)

- ١ عاش المصرى القديم في بداية حياته فوق الهضاب.
- ٢ من روافد نهر النيل في منطقة إثيوبيا نهر عطبرة.
- ٣ يعرف خط الطول الرئيسى بخط جرينتش.
- ٤ من الأودية الجافة التي تقع في الصحراء الشرقية وادى العلاقي.
- ٥ زيادة نسبة التغير المناخي تؤدي إلى ارتفاع منسوب مياه البحر.

السؤال الثالث

- اكتب كلمة (صواب) أمام العبارة الصحيحة، وكلمة (خطأ) أمام العبارة غير الصحيحة:

- ١ تقع معظم أراضي الدولة المصرية ضمن إقليم البحر المتوسط. (خطأ)
- ٢ تفيد دوائر العرض في حساب الوقت بين مدينتين. (خطأ)
- ٣ تحلية مياه البحر من الوسائل التي اتخذتها مصر لمواجهة التغيرات المناخية. (صواب)
- ٤ اهتم ملوك الدولة الوسطى بجحوض العديد من المعارك الحربية. (خطأ)
- ٥ استخدم المصريون القدماء النباتات الطبيعية في علاج بعض الأمراض. (صواب)



تقييم عام 1 على الوحدة الأولى

1 أمامك خريطة صماء لمصر حدد ما تدل عليه الأرقام :



1- أصغر الوحدات التضاريسية

- مساحة
- 2- محمية جبل
- 3- سلاسل جبال
- 4- واحة
- 5- البحر

2 اختر الإجابة الصحيحة مما بين القوسين :

- 1- من العوامل الطبيعية التي تؤثر في التغير المناخي
- (الأسمدة والمبيدات الكيماوية - انفجار البراكين - تلوث المياه - حرق الوقود الحفري)
- 2- من أمثلة مشاريع الدولة للتعرف على الحضارة المصرية القديمة
- (القرية الذكية - القرية الفرعونية - المدينة الفرعونية - تحلية مياه البحر)
- 3- من أمثلة النبات الطبيعي في الصحارى المصرية
- (التين - الزيتون - الصبار - التفاح)
- 4- كانت عاصمة الدولة الموحدة عام ٣٢٠٠ ق.م هي
- (بوتو - منف - أون - نخب)

3 ما العلاقة بين؟

- 1- الأنشطة البشرية وتغير المناخ.
- 2- المناطق الساحلية والمناخ.
- 3- الملك نعرمر (مينا) ووحدة البلاد.

4 أجب عما يلي:

- 1- اذكر أسباب حدوث فصول السنة الأربعة.
- 2- ماذا تعرف عن رياح الخماسين؟

5 قارن بين مملكة الشمال ومملكة الجنوب من حيث :

وجه المقارنة	مملكة الشمال	مملكة الجنوب
لون التاج
الشعار
المعبود
العاصمة

١ (أ) رتب المخطط الزمني لمراحل الوحدة السياسية لمصر.

○
معرفة الإنسان
المصري للزراعة.

○
سكن الإنسان
المصري الكهوف.

○
ظهور الأقاليم
المستقلة.

○
ظهور مملكة
الشمال والجنوب.

○
بناء المساكن
من الطوب اللبن.

○
نشأة القرى
والمدن.

(ب) اكتب كلمة (صح) أمام العبارة الصحيحة وكلمة (خطأ) أمام العبارة غير الصحيحة :

- ١- تنقسم مصر إلى أربع وحدات تضاريسية مختلفة في خصائصها. ()
- ٢- كانت مدينة بوتو عاصمة مصر بعد توحيد الملك مينا للبلاد. ()
- ٣- تنتمي مدينة الأقصر إلى إقليم البحر المتوسط. ()
- ٤- ترتفع درجة الحرارة على قمم الجبال في مصر عن مستواها على سطح الأرض. ()
- ٥- تمتلك مصر موقعًا جغرافيًا فريدًا. ()



٢ تقييم عام على الوحدة الأولى



١ أمامك خريطة صماء لمصر حدد ما تدل عليه الأرقام :

- ١- إقليم مناخي
- ٢- جبل
- ٣- وادى جاف
- ٤- الصحراء
- ٥- البحر

٢ اذكر سببًا واحدًا لما يلي:

١- نزول الإنسان المصرى القديم من الهضبة إلى الوادى.

.....

٢- حدوث فصل الصيف في مصر في شهر يونيو.

.....

٣- أهمية دراسة دوائر العرض.

.....

٣ اختر الإجابة الصحيحة مما بين القوسين :

- ١- بعد نزول الإنسان المصرى من الهضاب تعلم وعرف الاستقرار.
(الزراعة - الصناعة - التجارة - التعدين)
- ٢- يمكن معرفة فروق التوقيت بدراسة
(خطوط الطول - دوائر العرض - وردة البوصلة - مفتاح الخريطة)
- ٣- من الأسباب البشرية لحدوث التغيرات المناخية
(انفجار البراكين - السيول - الأعاصير - استخدام الأسمدة الكيماوية)
- ٤- تقع معظم الأراضى المصرية فى إقليم مناخ
(البحر المتوسط - الاستوائى - الصحراوى الحار - الموسمى)
- ٥- كان يعيش الإنسان المصرى القديم فوق الهضاب فى
(أكواخ - كهوف - مساكن من الطوب اللبن - المعابد)

٤ اكتب مدلول كل عبارة من العبارات الآتية :

- ١- دوائر أفقية وهمية تفيدنا فى معرفة أحوال المناخ. ()
- ٢- رياح محملة بالأتربة والرمال وتحدث خلال فصل الربيع. ()
- ٣- نباتات تنمو تلقائياً دون تدخل الإنسان ولها فوائد طبية وعلاجية عديدة. ()
- ٤- مناطق تقوم الدولة بإنشائها بهدف حماية الحيوانات البرية والطيور والأسماك والنباتات الطبيعية المهددة بالانقراض. ()
- ٥- سكنها الإنسان المصرى القديم فوق الهضاب. ()
- ٦- ندره سقوط الأمطار فى موسم معين. ()

٥ اذكر أهم النتائج المترتبة على : (يكتفى بنتيجة واحدة)

- ١- التغيرات المناخية فى مصر.
- ٢- نزول الإنسان المصرى القديم من الهضبة إلى الوادى.
- ٣- توحيد مملكتى الشمال والجنوب على يد الملك نعرمر (ميناء).
- ٤- موقع مصر الفلكى.
- ٥- انتشار المياه الجوفية فى صحراء مصر الغربية.

٦ (أ) اذكر جهود الدولة للحد من أخطار التغيرات المناخية.

(ب) قارن بين أهمية خطوط الطول ودوائر العرض :

وجه المقارنة	خطوط الطول	دوائر العرض
أهمية كلاً منهما	١- تفيد فى تحديد	١- تفيد فى تحديد
	٢- تحديد	٢- معرفة أحوال
	٣- معرفة بين الأماكن على سطح الأرض.	من حيث و



نماذج الاختبارات الشهرية

1

النموذج الأول اختبار الشهر الأول

مقالته



1 أمامك خريطة صماء لمصر وضع ما تدل عليه الأرقام :

- 1- سلاسل جبال
- 2- تقع المدينة ضمن الإقليم
- 3- البحر

(قادش - مجدو - أكتيوم - أكتوبر)

2 (أ) اختر الإجابة الصحيحة مما بين القوسين :

- 1- انتصر الملك تحتمس الثالث في معركة
- 2- دوران الأرض حول الشمس كل 365 يوم ويربع يسمى

(الدورة اليومية - الدورة السنوية - الشروق - الغروب)

(ب) قارن بين :

- مملكة الشمال ومملكة الجنوب من حيث (لون التاج - العاصمة - الشعار) .

.....

3 (أ) أكمل العبارات الآتية بكلمات مناسبة :

- 1- تقع مدينة أسوان ضمن إقليم مناخ
- 2- بنى المصريون القدماء مساكنهم من
- 3- منطقة تنتشر بها أشجار الزيتون واللوز.

(ب) حدد أوجه التشابه والاختلاف بين خطوط الطول ودوائر العرض .

.....

4 (أ) اكتب كلمة (صح) أمام العبارة الصحيحة وكلمة (خطأ) أمام العبارة غير الصحيحة :

- 1- سجل الملك نعرمر (مينا) انتصاراته على لوحة تحمل اسمه . ()
- 2- اتخذت مصر عدة إجراءات لمواجهة التغير المناخي . ()

(ب) اذكر سبباً واحداً لكل من :

- 1- استقرار الإنسان المصري في وادي النيل .
- 2- أهمية القرية الفرعونية .
- 3- تعاقب فصول السنة الأربعة .

النموذج الثاني اختبار الشهر الأول **مجاب عنه**

١ (أ) اختر الإجابة الصحيحة مما بين القوسين:

١- قام الملك بتوحيد البلاد عام ٣٢٠٠ ق.م. (أحمس - رمسيس الثاني - نعرمر - خوفو)

٢- قد يؤدي ارتفاع منسوب مياه البحر إلى غرق سواحل مدينة (الغردقة - الإسكندرية - أسوان - سفاجا)

(ب) ما النتائج المترتبة على ؟

١- توافر المياه العذبة الجوفية في الصحراء الغربية.

٢- ندرة الأمطار وارتفاع درجات الحرارة بالنسبة للنبات الطبيعي في الصحارى المصرية.

٢ (أ) اكتب ما تشير إليه كل عبارة من العبارات الآتية:

١- ساعد على تنوع المحاصيل والحفاظ على الآثار. (.....)

٢- دائرة رئيسية تقسم الكرة الأرضية قسمين شمالي وجنوبي. (.....)

(ب) أجب عن الأسئلة التالية :

١- قارن بين الإقليم الصحراوي الحار وإقليم البحر المتوسط من حيث درجات الحرارة.

وجه المقارنة	الإقليم الصحراوي الحار	إقليم البحر المتوسط
درجة الحرارة

٢- " تتعامد الشمس على مدار السرطان يوم ٢١ يونيو في مصر " .

في ضوء العبارة السابقة ، وضح الفصل المناخي في مصر في هذا الوقت وخصائصه المناخية.



٣ أمامك خريطة صماء لمصر وضح ما تدل عليه الأرقام :

- ١- البحر
- ٢- جبل
- ٣- إقليم مناخي
- ٤- منطقة زراعية
- ٥- الصحراء

٤ ما العلاقة بين ؟

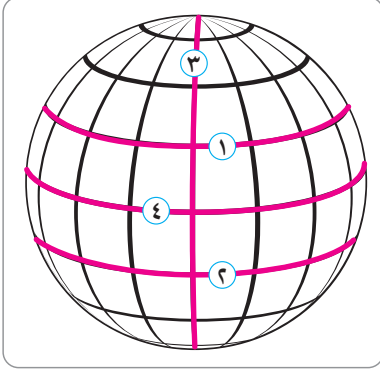
١- موقع مصر الفلكي والمناخ.

٢- الملك تحتمس الثالث وأمير قادش.

امتحانات الشاطر على شهر أكتوبر

الامتحان الأول

السؤال الأول: (أ) أمامك رسم للكرة الأرضية ، وضح مدلول الأرقام التي عليها :



- ١ - مدار
- ٢ - مدار
- ٣ - خط الطول الرئيسي
- ٤ - دائرة العرض الرئيسية

(ب) اكتب كلمة (صح) أمام العبارة الصحيحة وكلمة (خطأ) أمام العبارة الخاطئة :

- ١ - تقع مصر كلها ضمن الإقليم الصحراوي . ()
- ٢ - تصغر دوائر العرض كلما ابتعدنا شمالاً وجنوباً عن دائرة الاستواء . ()
- ٣ - نشأت الأقاليم قبل نشأة القرى والمدن . ()
- ٤ - انتصر الملك مينا على أهل سوريا في معركة مجدو . ()
- ٥ - كان لنهر النيل العديد من الفروع لكنها ردمت ولم يتبقى إلا فرعي رشيد ودمياط . ()

السؤال الثاني: (أ) بم تفسر ... ؟

- ١ - خصوبة أراضي منخفض الفيوم رغم وقوعه في الصحراء .

- ٢ - أهمية الأودية الجافة .

- ٣ - تكون جبال البحر الأحمر .

- ٤ - حدوث التغيرات المناخية .

(ب) أكمل العبارات الآتية بكلمات مناسبة :

- ١ - عندما تصاب الشعاب المرجانية بالضعف يؤثر ذلك على النشاط
- ٢ - ارتفاع منسوب مياه البحر يؤدي إلى
- ٣ - يحدث فصل الشتاء عند تعامد الشمس على مدار
- ٤ - يوجد في جنوب الصحراء الغربية هضبة بينما في شمالها هضبة

السؤال الثالث : (أ) ما النتائج المترتبة على ... ؟

١ - موقع مصر الجغرافي .

.....

٢ - وجود المعادن والصخور في مصر القديمة .

.....

(ب) ماذا يحدث إذا ... ؟

١ - لم يحل الجفاف فوق الهضاب .

.....

٢ - لم يوحد مينا مملكتي الشمال والجنوب عام ٣٢٠٠ ق.م .

.....

(ج) صوب ما تحته خط :

١ - ينبع نهر النيل جنوباً عند بحيرة ناصر .

٢ - نشأت الدلتا بسبب التعرية الهوائية .

٣ - من الأشجار التي تنمو في الدلتا النخيل .

٤ - النبات الطبيعي هو النبات الذي ينمو بتدخل الإنسان .

٥ - تتكون الثلوج على قمم الجبال شتاءً مثل جبل العوينات .

(د) ما مقترحاتك لـ ... ؟

■ مواجهة التغير المناخي .

.....

.....

الامتحان الثاني

.....
٢٠

السؤال الأول: (أ) أمامك خريطة صماء لمصر ، وضح مدلول الأرقام التي عليها :



- ١ - هضبة
- ٢ - منخفض
- ٣ - محمية طبيعية
- ٤ - هضبة

(ب) أكمل العبارات التالية بكلمات مناسبة :

- ١ - من قارات العالم القديم
- ٢ - تقسم الكرة الأرضية إلى نصف شمالي ونصف جنوبي .
- ٣ - يسمى عصر الدولة القديمة بعصر
- ٤ - من العوامل الطبيعية لقيام الحضارة المصرية
- ٥ - أصغر الأقسام التضاريسية في مصر هي

السؤال الثاني: (أ) بم تفسر ... ؟

- ١ - تركز بعض السكان في واحة سيوة .

- ٢ - تكون الثلوج على قمة جبل سانت كاترين شتاءً .

- ٣ - تعرض النباتات الطبيعية والحيوانات البرية في مصر لكثير من الأخطار .

(ب) اكتب كلمة (صح) أمام العبارة الصحيحة وكلمة (خطأ) أمام العبارة الخاطئة :

- ١ - ترجع برديتا إبيرس وهيرست إلى عهد الملك مينا . ()
- ٢ - توجد محمية نبق في محافظة البحر الأحمر . ()
- ٣ - صناعة الحديد والصلب والأسمت من الصناعات التي تسبب التغيرات المناخية . ()
- ٤ - استطاع الملك تحتمس أن يمد نفوذ مصر إلى بلاد النوبة جنوبًا . ()
- ٥ - حكمت حتشبسوت مصر قبل تحتمس الثالث . ()

السؤال الثالث : (أ) ما النتائج المترتبة على ... ؟

١ - معركة مجدو .

.....

٢ - التغير المناخي بالنسبة للمياه العذبة .

.....

٣ - الموقع الفلكي .

.....

(ب) اكتب ما تشير إليه العبارتان التاليتان :

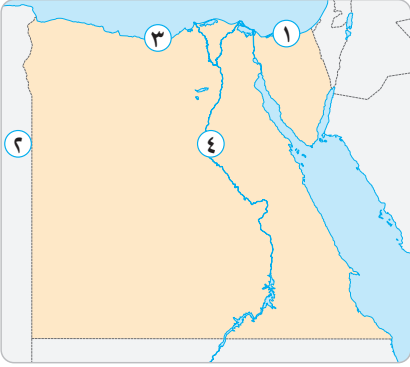
١ - تنوع الحياة النباتية والحيوانية على كوكب الأرض وتنوع البيئات . (.....)

٢ - رواسب فيضية تكونت عند مصب نهر النيل وهي على شكل مثلث . (.....)

.....
٢٠

الامتحان الثالث

السؤال الأول: (أ) أمامك خريطة صماء لمصر ، وضح مدلول الأرقام التي عليها :



- ١ - واد جاف
- ٢ - خط طول
- ٣ - مدينة مهددة بالغرق
- ٤ - مدينة تصل فيها درجة الحرارة شتاءً لتحت الصفر

(ب) أكمل العبارات التالية بكلمات مناسبة :

- ١ - يمر مدار في نصف الكرة الجنوبي
- ٢ - تقع معظم الأرض المصرية ضمن الإقليم
- ٣ - عرف المصري القديم عندما نزل إلى وادي النيل .
- ٤ - كانت مدينة هي أول عاصمة لمصر الموحدة عام ٤٢٤٢ ق.م .
- ٥ - يقع منخفض الفيوم القاهرة .

السؤال الثاني: (أ) اذكر سببًا واحدًا لكل مما يلي :

- ١ - تكون الوادي والدلتا ومنخفض الفيوم .

- ٢ - أهمية قناة السويس .

- ٣ - تعرض مصر لبعض الأخطار في فصل الربيع .

- ٤ - تعتبر منطقة سانت كاترين من مناطق الجذب السياحي .

(ب) اكتب كلمة (صح) أمام العبارة الصحيحة وكلمة (خطأ) أمام العبارة الخاطئة :

- ١ - تقترب الشمس من شمال مصر في فصل الصيف . ()
- ٢ - من أسباب التنوع النباتي في مصر تنوع المناخ . ()
- ٣ - توجد الصحراء البيضاء في محافظة الوادي الجديد . ()
- ٤ - استخدام الوقود الحفري يقلل من تأثيرات التغير المناخي . ()
- ٥ - اهتم تحتمس الثالث بالجيش وزوده بالعجلات الحربية . ()

السؤال الثالث : (أ) ما العلاقة بين ... ؟

- ١ - مدينة (من - نفر) والملك مينا .

- ٢ - موقع مصر الجغرافي وعلاقتها مع الدول المجاورة .

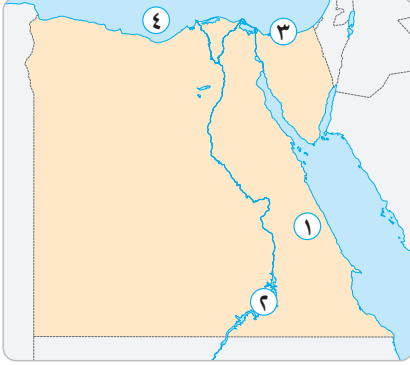
(ب) ما رأيك في ... ؟

- ١ - قيام الدولة بإقامة المحميات الطبيعية .

- ٢ - وجود جيش قوي لمصر .

الامتحان الرابع

السؤال الأول: أمامك خريطة صماء لمصر ، وضح مدلول الأرقام التي عليها :



- ١ - يشير رقم ① لظاهرة تكونت بفعل
- ٢ - يشير رقم ② إلى بحيرة عذبة هي
- ٣ - يشير رقم ③ إلى محمية طبيعية هي
- ٤ - يشير رقم ④ إلى مسطح مائي وهو

السؤال الثاني: اكتب كلمة (صح) أمام العبارة الصحيحة وكلمة (خطأ) أمام العبارة الخطأ :

- ١ - بنى المصري القديم البيوت المصنوعة من الطوب الأحمر . ()
- ٢ - كان نبات البردي شعار مملكة الشمال . ()
- ٣ - توجد هضبة مارمريكا شمال الصحراء الغربية . ()
- ٤ - يمتد نهر النيل في عدة دول وينبع من بحيرة فيكتوريا . ()
- ٥ - ترتفع درجات الحرارة صيفاً بسبب طول النهار . ()
- ٦ - عند سيرك على ضفاف النيل من المتوقع أن ترى التين الشوكي والصبار . ()

السؤال الثالث: اكتب ما تشير إليه العبارات التالية :

- ١ - مساحة من الأرض أو المياه تضم مجموعة من النباتات والحيوانات ذات قيمة ويحظر فيها الصيد . (.....)
- ٢ - الاختلافات في الأحوال المناخية مثل درجة الحرارة والأمطار . (.....)
- ٣ - رياح لها تأثير سلبي على صحة الإنسان وتهب في فصل الربيع . (.....)
- ٤ - دوران الأرض حول الشمس كل ٣٦٥ يوماً وربع اليوم . (.....)
- ٥ - محمية تعد المحطة الأولى للطيور المهاجرة من قارتي أوروبا وآسيا . (.....)

السؤال الرابع : اكتب نتيجة واحدة لكل مما يلي :

١ - تجمع القرى والمدن .

.....

٢ - حدوث الحركات الانكسارية في الصحراء الشرقية .

.....

٣ - حدوث الانفجارات البركانية .

.....

السؤال الخامس : اذكر العلاقة بين :

١ - قناة السويس والنمو العمراني .

.....

٢ - مدار الجدي وفصل الشتاء .

.....

السؤال السادس : أجب عما يلي :

١ - كتلميذ في الصف الخامس ، ما مقترحاتك لمواجهة التغيرات المناخية ؟

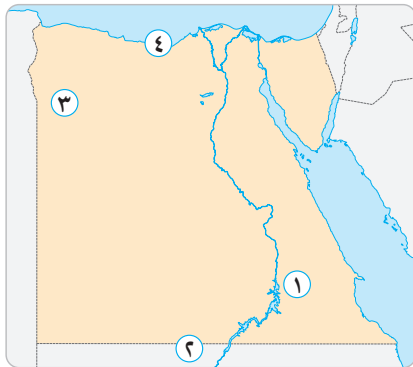
.....

٢ - ماذا يحدث لو لم تطل مصر على البحر المتوسط ؟

.....

الامتحان الخامس

السؤال الأول: أمامك خريطة صماء لمصر ، وضح مدلول الأرقام التي عليها :



- ١ - يشير الرقم ① إلى ظاهرة تضاريسية تستخدم كطرق للنقل وهي
- ٢ - يشير الرقم ② إلى الدولة التي تحد مصر جنوباً.....
- ٣ - يشير الرقم ③ إلى ظاهرة تكونت بفعل التعرية المائية والهوائية
- ٤ - يشير الرقم ④ إلى إقليم مناخي وهو

السؤال الثاني: صوب ما تحته خط :

- ١ - كانت عاصمة مملكة الجنوب مدينة أون . (.....)
- ٢ - يصب نهر النيل في البحر الأحمر . (.....)
- ٣ - يوجد جبل سانت كاترين وجبل موسى في جنوب الصحراء الغربية . (.....)
- ٤ - تتعامد الشمس على مدار السرطان في فصل الربيع . (.....)
- ٥ - من الحيوانات سريعة الجري التي تعيش في الصحاري المصرية الأبقار . (.....)

السؤال الثالث: اكتب كلمة (صح) أمام العبارة الصحيحة وكلمة (خطأ) أمام العبارة الخاطئة :

- ١ - من أمثلة الطيور البرية التي تنتشر بالصحاري المصرية طائر أبو قردان . ()
- ٢ - مواجهة التغير المناخي مسؤولية الفرد والمجتمع . ()
- ٣ - عرفنا مراسم تتويج الملك تحتمس من خلال لوحة نعرمر . ()
- ٤ - تساعدنا دوائر العرض على معرفة أحوال المناخ . ()
- ٥ - يعتبر نهر النيل من العوامل البشرية لقيام الحضارة المصرية . ()

السؤال الرابع : أجب عما يلي :

١ - دلل على أن الصحاري المصرية غنية بالثروات المختلفة .

.....

٢ - اذكر سبب تركيز السكان في بعض المناطق الصحراوية .

.....

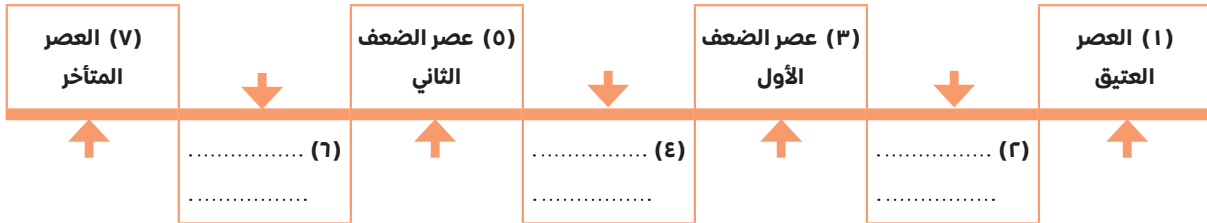
٣ - فصل الربيع ليس من أجمل الفصول (ما رأيك في ذلك ؟) .

.....

٤ - في أي الأقاليم المناخية تقع المدن التالية (الأقصر - الإسكندرية - المنيا) ؟

.....

السؤال الخامس : أمامك خط زمني وضح عليه العصور التاريخية التي مرت بها مصر القديمة من القديم للحديث :



السؤال السادس : أكمل العبارات التالية بكلمات مناسبة :

١ - توجد الهضاب في سيناء .

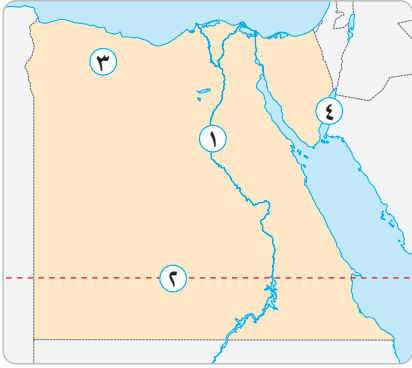
٢ - قد تسقط أمطار على شكل في فصل الخريف على جبال

٣ - النباتات التي تنمو على الساحل الشمالي للبحر المتوسط تسمى نباتات

الامتحان السادس

٢٠

السؤال الأول: أمامك خريطة صماء لمصر ، وضح مدلول الأرقام التي عليها :



- ١ - نهر يبدأ عند بحيرة فيكتوريا وهو
- ٢ - مدار تتعامد عليه الشمس صيفاً
- ٣ - منخفض غير مأهول بالسكان
- ٤ - محمية طبيعية

السؤال الثاني: أكمل العبارات التالية بكلمات مناسبة :

- ١ - من أقدم البرديات التي سجلت عليها الوصفات الطبية برديتا
- ٢ - أنشأ الملك مينا مدينة لتكون عاصمة لمصر الموحدة .
- ٣ - اهتم تحتمس الثالث بالجيش فزوده ب.....
- ٤ - يعتبر من الأنشطة البشرية التي تؤدي إلى التغيرات المناخية .
- ٥ - مشاهدة الثلوج في مدينة تدل على وجود خلل مناخي .

السؤال الثالث: ما المقصود ب... ؟

- ١ - الموقع الفلكي .
- ٢ - الأودية الجافة .

السؤال الرابع: ما العلاقة بين ... ؟

- ١ - بحيرة فيكتوريا ونهر النيل .

- ٢ - التغيرات المناخية وقيام الحضارة المصرية القديمة .

- ٣ - الدورة السنوية وفصول السنة .

السؤال الخامس : اكتب كلمة (صح) أمام العبارة الصحيحة وكلمة (خطأ) أمام العبارة الخطأ :

- ١ - تتساوى ساعات الليل والنهار في فصل الصيف . ()
- ٢ - تأسست أول أسرة فرعونية في مصر عام ٣٢٠٠ ق.م . ()
- ٣ - عرف المصري القديم الزراعة فوق الهضاب . ()
- ٤ - تتميز مصر بموقعها وسط قارات العالم الجديد . ()
- ٥ - لم يحترم المصري القديم نهر النيل . ()

السؤال السادس : رتب الأحداث التالية ترتيبًا تصاعديًا (من القديم للحديث) :

(نشأة الأقاليم - بناء مدينة منف - نشأة القرى - الوحدة الأولى ٤٢٤٢ ق.م - حياة الهضاب)

السؤال السابع : ما النتائج المترتبة على ... ؟

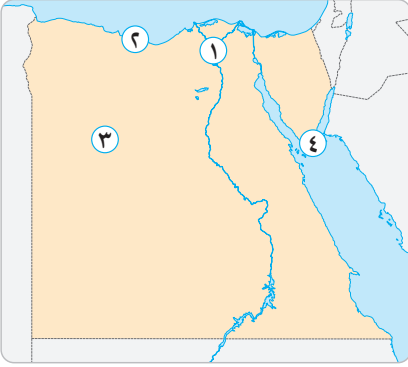
١ - اهتمام ملوك الدولة الوسطى بإقامة المشروعات الاقتصادية .

٢ - تراكم الرواسب الفيضية عند مصب نهر النيل .



الامتحان السابع

السؤال الأول: أمامك خريطة صماء لمصر ، وضح مدلول الأرقام التي عليها :



- ١ - المنطقة رقم ١ يتوقع أن ينمو فيها أشجار مثل
- ٢ - المنطقة رقم ٢ يتوقع أن ينمو فيها نباتات
- ٣ - المنطقة رقم ٣ يتوقع أن تنمو فيها
- ٤ - المنطقة رقم ٤ بها كائنات بحرية مهددة بالانقراض ، مثل

السؤال الثاني: ماذا يحدث لو ... ؟

- ١ - لم يتصل منخفض الفيوم بالنيل عن طريق ترعة بحر يوسف .
.....
- ٢ - لم تتوافر المعادن والصخور في مصر .
.....
- ٣ - لم تتعامد الشمس على دائرة الاستواء مرتين في العام .
.....

السؤال الثالث: أكمل العبارات التالية بكلمات مناسبة :

- ١ - تبدو الدلتا على شكل بينما أكبر الظواهر التضاريسية هي
- ٢ - تعادل درجات الحرارة في المناطق القريبة من المسطحات المائية بسبب
- ٣ - من الأخطار التي تهدد التنوع البيولوجي في مصر
- ٤ - بعض النباتات الصحراوية لها جذور طويلة لتصل إلى
- ٥ - تؤدي التغيرات المناخية إلى انكماش مساحة الأرض الزراعية مما يؤثر سلباً على

السؤال الرابع : أجب عما يلي :

١ - بم تفسر : أهمية النباتات الطبيعية عند المصريين القدماء ؟

.....

٢ - للتغيرات المناخية أثر كبير خصوصاً على صحة الإنسان .. وضح ذلك .

.....

٣ - ما العلاقة بين : دوائر العرض والأقاليم المناخية ؟

.....

٤ - إلى أي الأقسام التضاريسية تنتمي الظواهر التالية (فرع دمياط - هضبة العبابدة - وادي العريش) ؟

.....

السؤال الخامس : اكتب كلمة (صح) أمام العبارة الصحيحة وكلمة (خطأ) أمام العبارة الخاطئة :

١ - يسمى عصر الدولة الحديثة بعصر بناء الأهرامات . ()

٢ - تتحكم قناة السويس بنحو ١٢٪ من حركة التجارة العالمية وطولها ١٩٣ كم . ()

٣ - يمتد بحر الرمال العظيم على الحدود المصرية الليبية . ()

٤ - ترتفع درجة الحرارة في محافظة المنيا شتاءً . ()

٥ - توجد محمية جبل علبة في محافظة البحر الأحمر ومحمية نبق في محافظة جنوب سيناء . ()

السؤال السادس : قارن بين :

- مملكة الشمال ومملكة الجنوب ، من حيث :

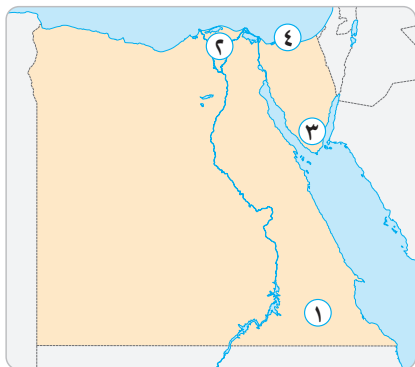
(الشعار - لون التاج - العاصمة - المعبود)

.....

الامتحان الثامن

٢٠

السؤال الأول: أمامك خريطة صماء لمصر، وضح مدلول الأرقام التي عليها:



١ - هضبة

٢ - ظاهرة نشأت بفعل عوامل

٣ - جبل

٤ - واد جاف

السؤال الثاني: صوب ما تحته خط:

- ١ - من الغازات الدفيئة التي تساعد على حدوث التغيرات المناخية الأكسجين . (.....)
- ٢ - لقب الملك تحتمس الثالث بصاحب التاجين وملك الأرضين . (.....)
- ٣ - يقسم مدار الجدي الكرة الأرضية إلى قسمين شرقي وغربي . (.....)
- ٤ - من الحيوانات المهددة بالانقراض في شبه جزيرة سيناء الجمال . (.....)
- ٥ - يتساوى طول الليل والنهار في فصلي الصيف والشتاء . (.....)

السؤال الثالث: اكتب كلمة (صح) أمام العبارة الصحيحة وكلمة (خطأ) أمام العبارة الخطأ:

- ١ - الموقع الجغرافي هو الموقع بالنسبة لخطوط الطول ودوائر العرض . ()
- ٢ - الوحدة والجيش من العوامل البشرية التي ساعدت على قيام الحضارة المصرية . ()
- ٣ - كان الجيش المصري يتعامل بكل عنف مع المدنيين . ()
- ٤ - استطاع القائد (وني) أن يكون أكبر إمبراطورية في التاريخ . ()
- ٥ - للنباتات الحولية أهمية عند البدو في شمال الصحراء الغربية . ()

السؤال الرابع : أجب عما يلي :

١ - بم تفسر : اختلاف النباتات الطبيعية من مكان لآخر ؟

.....

٢ - ماذا كان سيحدث لو : لم يتصل نهر النيل بالفيوم عن طريق ترعة بحر يوسف ؟

.....

٣ - ما العلاقة بين : درجات الحرارة وتعامد الشمس على مدار السرطان ؟

.....

٤ - ما النتائج المترتبة على : إنشاء الدولة للمحميات الطبيعية ؟

.....

السؤال الخامس : أكمل العبارات التالية بكلمات مناسبة :

١ - يمر مدار في جنوب مصر ، بينما يمر مدار جنوب الكرة الأرضية .

٢ - قسم المؤرخون التاريخ المصري إلى ويسبق عصر الدولة القديمة العصر

٣ - كانت مدينة عاصمة مملكة الشمال بينما كانت عاصمة مصر في الوحدة الأولى

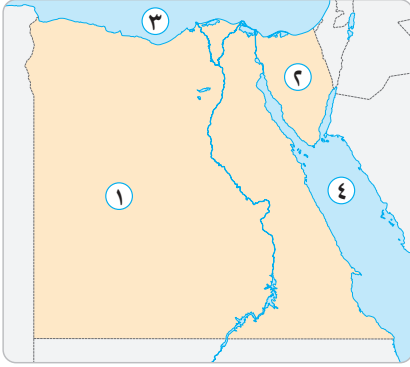
مدينة

٤ - من هضاب سيناء ومن هضاب شمال الصحراء الغربية



الامتحان التاسع

السؤال الأول: أمامك خريطة صماء لمصر ، وضح مدلول الأرقام التي عليها :



- ١ - الصحراء
- ٢ - شبه جزيرة
- ٣ - البحر
- ٤ - البحر

السؤال الثاني: أجب عن الأسئلة التالية :

- ١ - اذكر أهمية النباتات الطبيعية والحيوانات البرية .

.....

- ٢ - ما النتائج المترتبة على : التغيرات المناخية بالنسبة لصحة الإنسان .

.....

- ٣ - بم تفسر : تسمية عصر الدولة القديمة بعصر بناء الأهرامات ؟

.....

- ٤ - إلى أي الأقسام التضاريسية تنتمي الظاهرتان التاليتان (منخفض القطارة - وادي العلاقي) ؟

.....

- ٥ - ما العلاقة بين : التغيرات المناخية والإنتاج الزراعي ؟

.....

السؤال الثالث : أكمل العبارات التالية بكلمات مناسبة :

- ١ - تقع مصر بين خطي طول و شرقاً .
- ٢ - كان اللون الأبيض لون تاج مملكة ، بينما اللون الأحمر لون تاج مملكة
- ٣ - ظهرت الأقاليم بسبب تجمع مع
- ٤ - ينحدر وادي العريش من إلى ليصب في البحر المتوسط .
- ٥ - أصغر الأقسام التضاريسية في مصر هي و و

السؤال الرابع : اكتب كلمة (صح) أمام العبارة الصحيحة وكلمة (خطأ) أمام العبارة الخاطئة :

- ١ - تقع معظم الأراضي المصرية ضمن الإقليم البارد . ()
- ٢ - لو أردنا معرفة حالة المناخ في مدينة لندن نستعين بخطوط الطول . ()
- ٣ - تعود برديتا إبيرس وهيرست لعصر الملك أمنحتب الأول . ()
- ٤ - تستضيف مصر مؤتمر الأمم المتحدة للتغير المناخي في شرم الشيخ . ()
- ٥ - تقع مدينة (من - نفر) الآن في محافظة الأقصر . ()
- ٦ - كفاح المصريين والوحدة من العوامل الطبيعية اللازمة لقيام الحضارة المصرية القديمة . ()

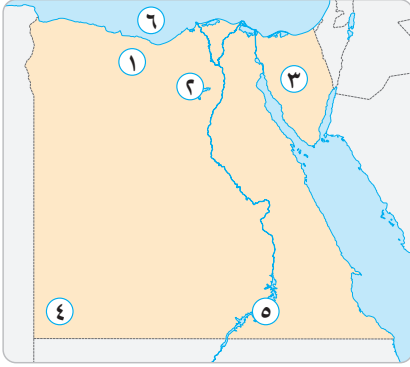
السؤال الخامس : صوب ما تحته خط :

- ١ - تكونت المنخفضات في شبه جزيرة سيناء بسبب التعرية المائية والهوائية . (.....)
- ٢ - تقع محمية نبق في محافظة البحر الأحمر . (.....)



الامتحان العاشر

السؤال الأول: أمامك خريطة صماء لمصر ، وضح مدلول الأرقام التي عليها :



- ١ - هضبة
- ٢ - منخفض
- ٣ - هضبة
- ٤ - جبل
- ٥ - بحيرة
- ٦ - البحر

السؤال الثاني: بم تفسر ... ؟

- ١ - تركيز السكان في واحة سيوة عكس منخفض القطارة .

.....

- ٢ - للتغير المناخي أثره على شواطئ مصر الشمالية .

.....

- ٣ - استضافة مصر مؤتمر الأمم المتحدة للتغير المناخي .

.....

- ٤ - أهمية وجود الجيش في مصر القديمة .

.....

السؤال الثالث: اكتب كلمة (صح) أمام العبارة الصحيحة وكلمة (خطأ) أمام العبارة الخطأ :

- ١ - صعب موقع مصر من اتصالها بدول العالم . ()
- ٢ - تعرض القرية الفرعونية في محافظة الجيزة تفاصيل عن حياة المصري القديم من خلال أشخاص يرتدون ملابس المصريين القدماء . ()
- ٣ - كانت مدينة بوتو عاصمة مملكة الجنوب . ()
- ٤ - توجد مناجم الذهب في الصحراء الشرقية . ()

- ٥ - ترتفع درجات الحرارة في الإسكندرية ومرسى مطروح طوال العام . ()
- ٦ - من الحيوانات المهددة بالانقراض الفهد المصري والنمر السيناوي والسلاحف البحرية . ()

السؤال الرابع : اكتب ما تشير إليه العبارات التالية :

- ١ - النباتات التي تنمو لسنة واحدة أو موسم زراعي واحد . (.....)
- ٢ - حرفة عرفها المصري القديم بعد نزوله لوادي النيل . (.....)
- ٣ - أكبر الأقسام التضاريسية في مصر . (.....)
- ٤ - أحد فصول السنة تتعامد فيه الشمس على مدار الجدي . (.....)
- ٥ - أحد العصور المصرية القديمة تميز بكثرة بناء الأهرامات . (.....)

السؤال الخامس : ماذا يحدث لو ... ؟

- لم يتعرض سطح مصر لعوامل التعرية المائية .
-

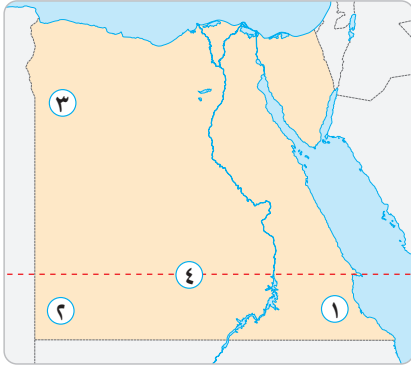
السؤال السادس : إلى أي الفصول تنتمي الشهور التالية ... ؟

- ١ - مايو . (.....)
- ٢ - يناير . (.....)
- ٣ - أغسطس . (.....)
- ٤ - أكتوبر . (.....)

خرائط الصف الخامس

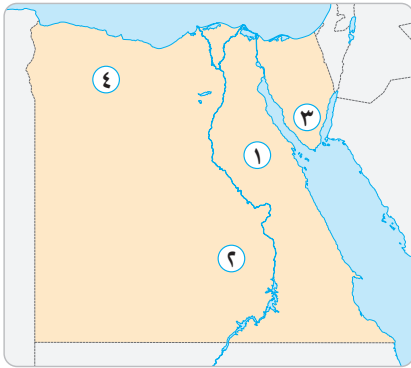
أمامك مجموعة خرائط صماء لمصر ، وضح مدلول الأرقام التي عليها :

أولاً :



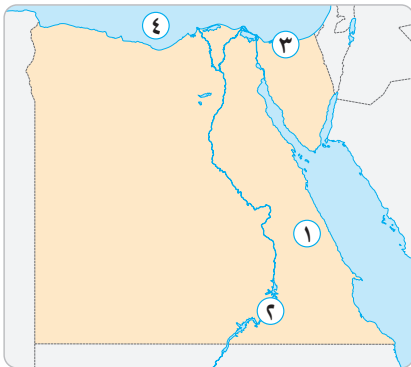
- ١ - محمية طبيعية.....
- ٢ - جبل.....
- ٣ - واحة.....
- ٤ - مدار.....

ثانياً :



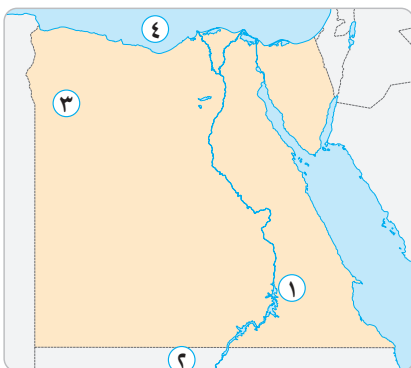
- ١ - هضبة.....
- ٢ - واحة نشأت بفعل التعرية المائية والهوائية.....
- ٣ - جبل.....
- ٤ - هضبة.....

ثالثاً :



- ١ - جبل نشأ بفعل العوامل.....
- ٢ - بحيرة.....
- ٣ - محمية طبيعية.....
- ٤ - البحر.....

رابعاً :



- ١ - واد له أهمية كبيرة وقت السيول.....
- ٢ - دولة لها حدود برية مع مصر.....
- ٣ - منخفض مأهول بالسكان بسبب.....
- ٤ - البحر.....

الإجابات الاسترشادية على امتحانات الشاطر على شهر أكتوبر

(د)

- استخدام النقل المستدام .
- تحلية مياه البحر .
- إعادة تدوير المياه العذبة .
- تطوير البنية التحتية .

الامتحان الثاني

السؤال الأول : (أ)

- ١ - الجلف الكبير
- ٢ - الفيوم
- ٣ - الزرائق
- ٤ - العبادة

(ب)

- ١ - آسيا وأوروبا
- ٢ - دائرة الاستواء
- ٣ - بناء الأهرامات
- ٤ - نهر النيل / الموقع الجغرافي / وفرة الموارد المعدنية
- ٥ - الوادي والدلتا ومنخفض الفيوم

السؤال الثاني : (أ)

- ١ - بسبب وفرة المياه الجوفية التي ساعدت على قيام حرفة الزراعة .
- ٢ - بسبب ارتفاعه الشديد .
- ٣ - بسبب :

- الصيد الجائر .
- ندرة المياه .
- تغير المناخ .
- إزالة النباتات الطبيعية لزراعة المحاصيل الغذائية .

(ب)

- ١ - خطأ
- ٢ - صح
- ٣ - صح
- ٤ - صح
- ٥ - صح

السؤال الثالث : (أ)

- ١ - انتصار تحتمس الثالث على الجيش السوري وسيطر على الشام والعراق .
- ٢ - ندرة المياه العذبة بسبب زيادة نسبة التبخر .
- ٣ - أصبحت معظم الأراضي المصرية ضمن الإقليم الصحراوي ما عدا الأجزاء الشمالية تقع ضمن الإقليم المعتدل (البحر المتوسط) .

(ب)

- ١ - التنوع البيولوجي
- ٢ - الدلتا

الامتحان الأول

السؤال الأول : (أ)

- ١ - السرطان
- ٢ - الجدي
- ٣ - جريتش
- ٤ - الاستواء

(ب)

- ١ - خطأ
- ٢ - صح
- ٣ - خطأ
- ٤ - خطأ
- ٥ - صح

السؤال الثاني : (أ)

- ١ - لأن تربته خصبة تروى بمياه نهر النيل عن طريق ترعة بحر يوسف .
- ٢ - لأنها تستخدم للتخلص من مياه السيول وتستخدم كطرق للنقل .
- ٣ - بسبب الحركات الانكسارية .
- ٤ - بسبب عوامل طبيعية مثل الانفجارات البركانية وعوامل بشرية مثل حرق الوقود الحفري وإزالة الغابات والإفراط في استخدام الأسمدة والمبيدات .

(ب)

- ١ - السياحي
- ٢ - تآكل الشواطئ أو غرقها
- ٣ - الجدي
- ٤ - الجلف الكبير / مارمريكا

السؤال الثالث : (أ)

- ١ - سهولة اتصالها مع جميع دول العالم حضارياً وتجارياً .
- ٢ - استخدمها المصري في صناعة الحلي والأدوات والمعابد والأهرامات .

(ب)

- ١ - لما نزل المصري من الهضبة للوادي وظل يعيش حياة تنقل ولما عرف الزراعة والاستقرار .
- ٢ - لظلت مصر منقسمة للمملكتين ولما تم بناء مدينة منف ولما أصبح في مصر حكومة موحدة .

(ج)

- ١ - فيكتوريا
- ٢ - التعرية المائية
- ٣ - الكافور والجميز
- ٤ - دون تدخل الإنسان
- ٥ - جبل سانت كاترين

الامتحان الثالث

السؤال الأول: (أ)

- ١ - العريش
٢ - الإسكندرية
٣ - الإسكندرية
٤ - المنيا

(ب)

- ١ - الجدي
٢ - الصحراوي
٣ - الزراعة
٤ - أون (هليوبوليس عين شمس الحالية)
٥ - جنوب غرب

السؤال الثاني: (أ)

- ١ - بسبب التعرية المائية .
٢ - ساعدت على زيادة أهمية موقع مصر الجغرافي .
٣ - بسبب هبوب رياح الخماسين التي تضر بصحة الإنسان وتتلف المحاصيل .
٤ - بسبب تراكم الجليد على قممها شتاءً .

(ب)

- ١ - خطأ
٢ - خطأ
٣ - صح
٤ - خطأ
٥ - صح

السؤال الثالث: (أ)

- ١ - أن الملك مينا هو الذي أسس مدينة (من - نفر) وجعلها عاصمة لمصر ٣٢٠٠ ق.م .
٢ - أن موقع مصر الجغرافي ساعد على سهولة اتصالها بجميع دول العالم تجارياً وحضارياً .

(ب)

- ١ - شيء رائع لأنه يساعد على حماية الحيوانات والطيور المهددة بالانقراض .
٢ - مهم جداً لأنه يساعد على حماية البلاد والدفاع عنها .

الامتحان الرابع

السؤال الأول:

- ١ - الحركات الانكسارية
٢ - ناصر
٣ - الزرائق
٤ - البحر المتوسط

السؤال الثاني:

- ١ - خطأ
٢ - صح
٣ - صح
٤ - صح
٥ - خطأ
٦ - خطأ

السؤال الثالث:

- ١ - محمية طبيعية
٢ - التغيرات المناخية
٣ - الخماسين
٤ - الدورة السنوية
٥ - محمية الزرائق

السؤال الرابع:

- ١ - نشأة الأقاليم .
٢ - تكون جبال البحر الأحمر .
٣ - زيادة انبعاثات الغازات الدفيئة مما يسبب ارتفاع درجة حرارة سطح الأرض وحدوث التغيرات المناخية .

السؤال الخامس:

- ١ - حيث إن حفر قناة السويس أدى إلى التوسع العمراني على جانبيها .
٢ - حيث يحدث فصل الشتاء عندما تتعامد الشمس على مدار الجدي في نصف الكرة الجنوبي .

السؤال السادس:

- ١ - أن أنشر الوعي بخطورة التغيرات المناخية وأحافظ على البنية التحتية وأشجع على استخدام النقل المستدام .
٢ - لما أصبح في مصر إقليم معتدل (بحر متوسط) .

الامتحان الخامس

السؤال الأول:

- ١ - وادي العلاقي
٢ - السودان
٣ - منخفض واحة سيوة
٤ - البحر المتوسط

السؤال الثاني:

- ١ - بوتو
٢ - البحر المتوسط
٣ - شبه جزيرة سيناء
٤ - دائرة الاستواء
٥ - الغزلان

السؤال الثالث:

- ١ - خطأ
٢ - صح
٣ - خطأ
٤ - صح
٥ - خطأ

السؤال الرابع:

- ١ - حيث تحتوى الصحراء الغربية على آبار المياه الجوفية ومناجم الحديد وحقول البترول والغاز الطبيعي والصحراء الشرقية تحتوى على معادن مثل الذهب والفسفات .

٢ - بسبب وجود المياه الجوفية .

٣ - لا أوافق على هذا الرأي لأن مصر تتعرض في فصل الربيع لرياح الخماسين التي تضر بصحة الإنسان وتتلف المحاصيل .

٤ - (صحراوي - بحر متوسط - صحراوي) .

• السؤال الخامس :

٢ - عصر الدولة القديمة .

٤ - عصر الدولة الوسطى .

٦ - عصر الدولة الحديثة .

• السؤال السادس :

١ - وسط ٢ - سيول

٣ - حولية

الامتحان السادس

• السؤال الأول :

١ - النيل ٢ - السرطان

٣ - القطارة ٤ - نبق

• السؤال الثاني :

١ - إبيرس وهيرست ٢ - (من - نفر)

٣ - العجلات الحربية / الفرسان

٤ - إزالة الغابات / النشاط الصناعي

٥ - الإسكندرية أو القاهرة أو الغردقة

• السؤال الثالث :

١ - هو موقع المكان بالنسبة لليابس والماء .

٢ - مجارٍ مائية كانت تملؤها المياه ثم جفت .

• السؤال الرابع :

١ - حيث إن بحيرة فيكتوريا من المنابع الدائمة التي ينبع

منها نهر النيل وتساهم بنسبة كبيرة في مياهه .

٢ - حيث إنه عند توقف سقوط الأمطار وحلول الجفاف

فوق الهضاب أدى ذلك لنزول المصري القديم

إلى وادي النيل فعرف الزراعة والاستقرار فقامت

الحضارة المصرية القديمة .

٣ - حيث إن الدورة السنوية للأرض حول الشمس أدت

إلى حدوث ظاهرة تعاقب فصول السنة الأربعة .

• السؤال الخامس :

١ - خطأ ٢ - صح ٣ - خطأ

٤ - خطأ ٥ - خطأ

• السؤال السادس :

١ - حياة الهضاب ٢ - نشأة القرى

٣ - نشأة الأقاليم ٤ - الوحدة الأولى ٤٢٤٢ ق.م

٥ - بناء مدينة منف

• السؤال السابع :

١ - تسمية الدولة الوسطى بعصر الرخاء الاقتصادي .

٢ - تكون دلتا نهر النيل .

الامتحان السابع

• السؤال الأول :

١ - التوت / الكافور ٢ - حولية

٣ - نباتات صحراوية ٤ - السلاحف البحرية

• السؤال الثاني :

١ - لما أصبحت تربته طينية خصبة صالحة للزراعة .

٢ - لما استطاع المصري القديم بناء الأهرامات وصناعة الحلي والأدوات .

٣ - لما حدث فصل الربيع وفصل الخريف .

• السؤال الثالث :

١ - مثلث ٢ - نسيم البحر

٣ - ندرة المياه ■ الصيد الجائر

■ التلوث الناتج عن الأنشطة الزراعية والصناعية

٤ - المياه الجوفية ٥ - الإنتاج الزراعي

• السؤال الرابع :

١ - استخدموها في الطب والعلاج وصناعة العطور .

٢ - التغيرات المناخية تؤدي إلى إصابة الإنسان بالأمراض مثل الملاريا .

٣ - حيث إن دوائر العرض هي المسؤولة عن تقسيم الأرض إلى أقاليم مناخية .

٤ - (الدلتا - الصحراء الشرقية - سيناء) .

• السؤال الخامس :

١ - خطأ ٢ - صح ٣ - صح

٤ - خطأ ٥ - صح

الامتحان التاسع

السؤال الأول :

- ١ - الغربية
٢ - سيناء
٣ - المتوسط
٤ - الأحمر

السؤال الثاني :

- ١ - يستخدمها البدو في رعي حيواناتهم وتستخدم في صناعة الأدوية والعطور ومستحضرات التجميل كما أنها تعتبر مزارات سياحية تجذب السياح .
٢ - إصابة الإنسان بالأمراض مثل الملاريا .
٣ - بسبب كثرة ما بناه ملوكها من أهرامات .
٤ - الصحراء الغربية / الصحراء الشرقية
٥ - حيث إن التغيرات المناخية تؤدي إلى انكماش مساحة الأرض الزراعية وتدهور التربة مما يؤثر سلباً على الإنتاج الزراعي .

السؤال الثالث :

- ١ - ٣٧ / ٢٥
٢ - الجنوب / الشمال
٣ - القرى / المدن
٤ - الجنوب / الشمال
٥ - الوادي / الدلتا / منخفض الفيوم

السؤال الرابع :

- ١ - خطأ
٢ - خطأ
٣ - صح
٤ - صح
٥ - خطأ
٦ - خطأ

السؤال الخامس :

- ١ - الصحراء الغربية
٢ - جبل علبة

الامتحان العاشر

السؤال الأول :

- ١ - مارميكا
٢ - الفيوم
٣ - التيه
٤ - العوينات
٥ - ناصر
٦ - المتوسط

السؤال الثاني :

- ١ - لأن منخفض سيوة يحتوي على مياه جوفية لذلك تقوم فيه الزراعة عكس منخفض القطارة لا يحتوي على مياه جوفية .
٢ - حيث يؤدي التغير المناخي إلى تآكل الشواطئ .
٣ - لوضع إجراءات حاسمة لمواجهة التغير المناخي .
٤ - لحماية البلاد والدفاع عنها .

السؤال السادس :

مملكة الجنوب	مملكة الشمال	
زهرة اللوتس	نبات البردي	الشعار
أبيض	أحمر	لون التاج
نخب	بوتو	العاصمة
أنثى النسر	ثعبان الكوبرا	المعبود

الامتحان الثامن

السؤال الأول :

- ١ - العبادة
٢ - التعرية المائية
٣ - سانت كاترين
٤ - العريش

السؤال الثاني :

- ١ - الأوزون
٢ - مينا (نعرمر)
٣ - خط جريتش
٤ - النمر السيناوي
٥ - الربيع والخريف

السؤال الثالث :

- ١ - خطأ
٢ - صح
٣ - خطأ
٤ - خطأ
٥ - صح

السؤال الرابع :

- ١ - بسبب اختلاف البيئات واختلاف المناخ واختلاف موارد المياه .
٢ - لما أصبحت تربته تربة طينية خصبة صالحة للزراعة .
٣ - حيث إن تعامد الشمس على مدار السرطان جنوب مصر يؤدي إلى حلول فصل الصيف مما يؤدي إلى ارتفاع درجات الحرارة .
٤ - يساعد على حماية الكائنات الحية المعرضة لخطر الانقراض .

السؤال الخامس :

- ١ - السرطان / الجدي
٢ - ٣٠ أسرة فرعونية / العتيق
٣ - مدينة بوتو / أون (هليوبوليس) عين شمس الحالية
٤ - التيه / مارميكا

الخرائط

• أولاً :

- ١ - جبل علبة
٢ - العوينات
٣ - سيوة
٤ - السرطان

• ثانيًا :

- ١ - المعازة
٢ - منخفض الخارجة
٣ - سانت كاترين
٤ - مارمرিকা

• ثالثًا :

- ١ - الانكسارية
٢ - ناصر
٣ - الزرائق
٤ - المتوسط

• رابعًا :

- ١ - العلاقي
٢ - السودان
٣ - المياه الجوفية
٤ - المتوسط

• السؤال الثالث :

- ١ - خطأ
٢ - صح
٣ - خطأ
٤ - صح
٥ - خطأ
٦ - صح

• السؤال الرابع :

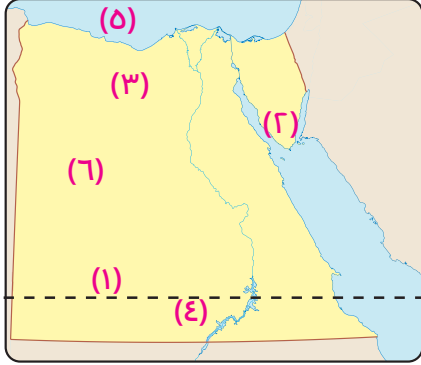
- ١ - النباتات الحولية
٢ - حرفة الزراعة
٣ - الصحراء الغربية
٤ - فصل الشتاء
٥ - عصر الدولة القديمة

• السؤال الخامس :

- ١ - لما تكونت الدلتا والوادي ومنخفض الفيوم .
٢ - (الربيع - الشتاء - الصيف - الخريف) .

نموذج (١) غير مُجاب عنه

أمامك خريطة صماء لمصر وضح ما تدل عليه الأرقام الآتية:



س ١

١ هضبة

٢ جبل

٣ منخفض

٤ بحيرة

٥ البحر

٦ الصحراء

س ٢

اكتب ما تشير إليه كل عبارة مما يلي:

١ موقع المكان بالنسبة لخطوط الطول ودوائر العرض.

٢ مجار مائية كانت تملؤها المياه ثم جفت.

٣ المدار الذي يمر جنوب مصر.

س ٣

أكمل العبارات الآتية بكلمات مناسبة:

١ من العوامل الطبيعية التي تؤدي إلى التغيرات المناخية

٢ يعد نهر هو أطول أنهار العالم ويصب في البحر المتوسط.

٣ نجح الملك في توحيد البلاد عام ٣٢٠٠ ق.م.

س ٤

أكتب كلمة صح امام العبارة الصحيحة وكلمة خطأ امام العبارة غير الصحيحة:

١ خط الطول الرئيسي هو خط جرينتش.

٢ شمال مصر يقع ضمن الإقليم الصحراوي.

٣ توجد هضبة العباددة في الصحراء الشرقية

س ٥

أجب عما يلي:

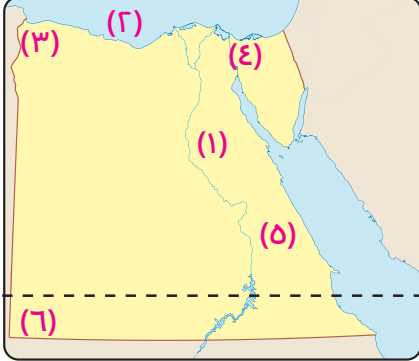
١ بم تفسر: للأودية الجافة أهمية اقتصادية.

٢ ما العلاقة بين: فصل الربيع في مصر وأمراض الجهاز التنفسي.

٣ ما مقترحاتك ل: الحفاظ على التنوع البيولوجي

نموذج (٢) غير مُجاب عنه

أمامك خريطة صماء لمصر وضح ما تدل عليه الأرقام الآتية:



١ الصحراء

٢ البحر

٣ هضبة

٤ قناة

٥ هضبة

٦ جبل

س١ صوب ما تحته خط فيما يلي:

١ كانت مدينة نخب هي أول عاصمة لمصر الموحدة عام ٤٢٤٢ ق.م.

٢ يصب وادي العريش في البحر الأحمر.

٣ تهب على مصر في فصل الشتاء رياح الخماسين.

س٣ اختر الإجابة الصحيحة مما بين القوسين:

١ يقع منخفض الفيوم جنوب غرب

(أسوان - القاهرة - المنيا - مطروح)

٢ يعد شهر أحد شهور الصيف في مصر.

(أكتوبر - يناير - يوليو - أبريل)

٣ توجد محمية جبل علبة في محافظة

(القاهرة - الفيوم - البحر الأحمر - الإسكندرية)

س٤ في أي المناطق بمصر توجد النباتات الآتية:

١ أشجار الكافور ٢ التين الشوكي ٣ نبات الصبار

٤ نبات الحلفا ٥ أشجار التين ٦ أشجار اللوز

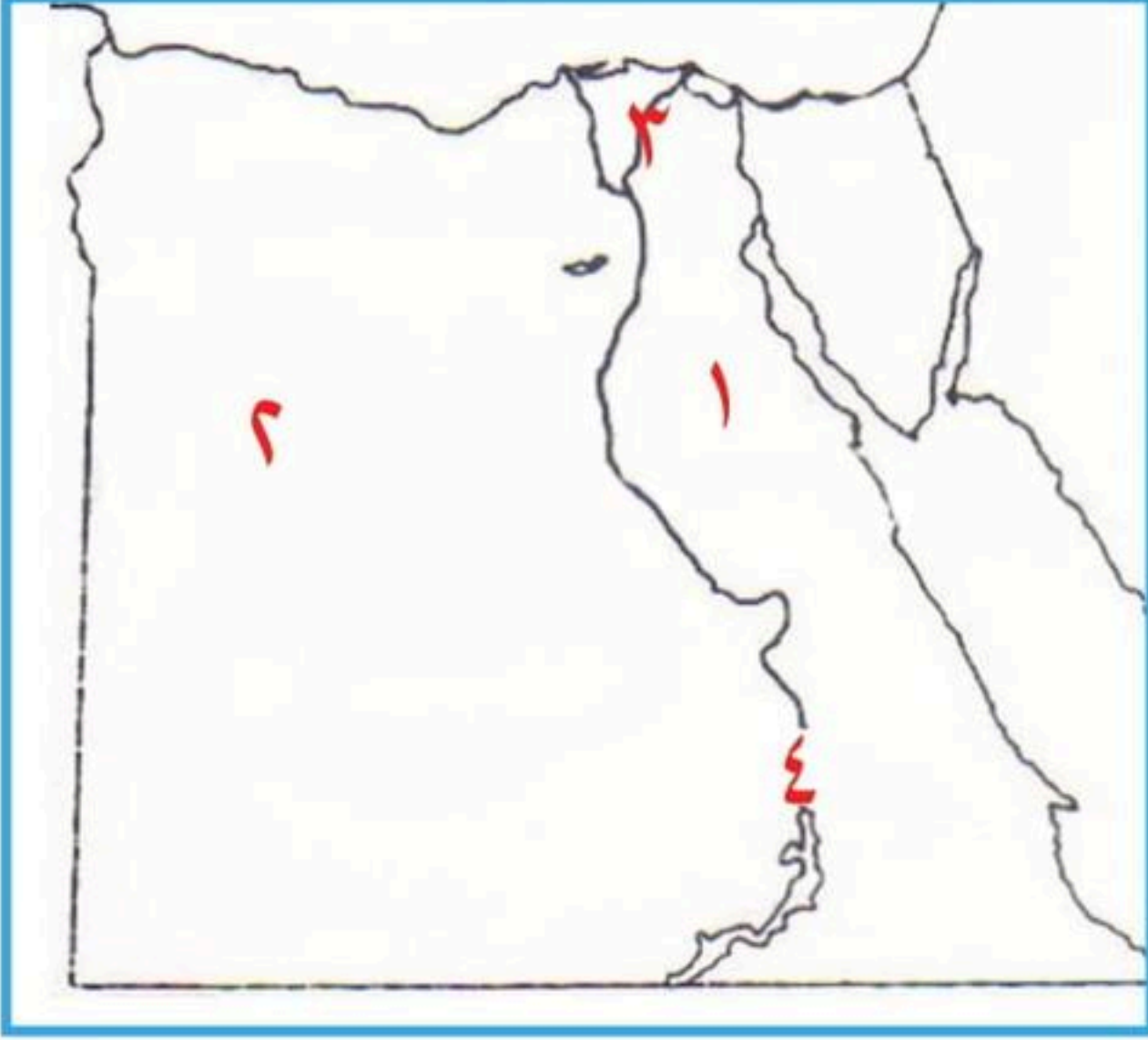
س٥ أجب عما يلي:

١ بم تفسر: تعاقب فصول السنة الأربعة

٢ ما العلاقة بين: النباتات الطبيعية والأمطار في الصحاري

٣ قارن بين: مملكة الشمال ومملكة الجنوب من حيث «لون التاج - العاصمة - الشعار»

١ أمامك خريطة صماء لمصر وضح مدلول الأرقام الموقعة عليها:



- ١ هضبة.....
- ٢ اكبر الوحدات التضاريسية في مصر.....
- ٣ فرع.....
- ٤ مملكة.....

٢ أكمل العبارات الآتية بكلمات مناسبة:

- ١ تقع محمية الزرانيق في محافظة.....
- ٢ تعد هضبه مارمريكا جزء من.....
- ٣ معظم الأراضي المصرية تقع ضمن الإقليم.....
- ٤ تدور الأرض حول الشمس مرة كل عام وينتج عنها تعاقب.....

٣ صوب ما تحته خط:

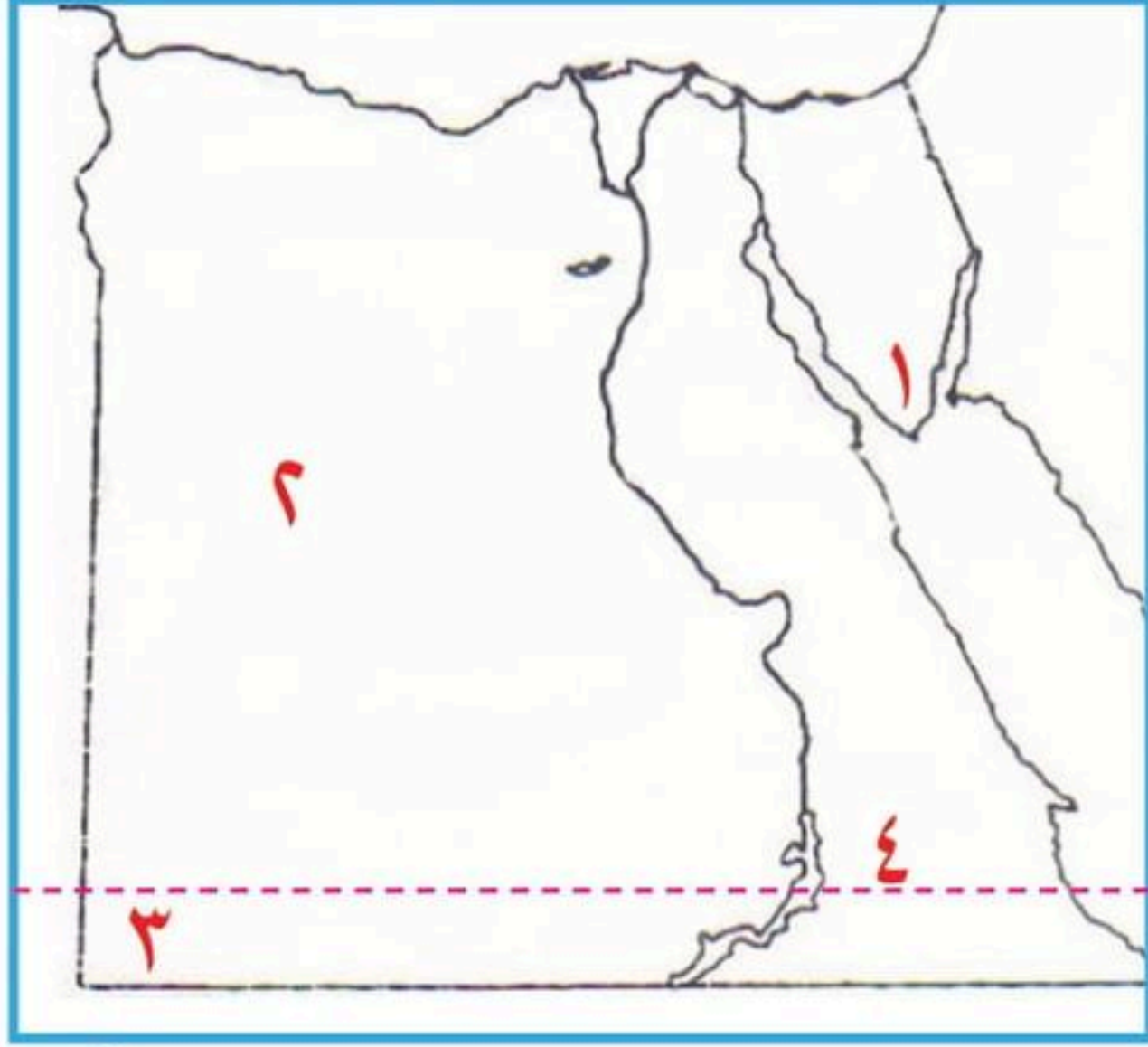
- ١ تساعدنا خطوط الطول في معرفه أحوال المناخ (.....)
- ٢ من النباتات التي لها القدره على تحمل الجفاف نبات الحلفا (.....)
- ٣ قامت الوحدة الثانية في مصر القديمة عام ٣٢٠٠ ق.م على يد مملكه الجنوب (.....)
- ٤ قاد معركة مجدو وانتصر على أمير قادش الملك مينا (.....)

٤ أجب عن الأسئلة الآتية:

- ١ اذكر نتيجة واحدة ترتبت على تعامد أشعة الشمس على مدار الجدي؟

- ٢ ما العلاقة بين النبات الطبيعي والبيئات المصرية؟

1 أمامك خريطة صماء لمصر وضع مدلول الأرقام الموقعة عليها:



- 1 محمية
- 2 منطقة يعيش فيها الجمال
- 3 جبل
- 4 دائرة عرض

2 اختر الإجابة الصحيحة مما بين القوسين:

- 1 تحدث ظاهره تآكل الشواطئ في شمال
- (منخفض الفيوم - هضبه مارمريكا - جبل سانت كاترين - الدلتا)
- 2 من الأودية الجافة التي تقع في الصحراء الشرقية
- (وادي العريش - وادي العلاقي - وادي النيل - وادي الاسيوطي)



- 3 من خلال الصورة المقابلة يشير رقم 1 الى دائرة
- (الاستواء - دائرة القطب الجنوبي - مدار السرطان - مدار الجدي)
- 4 مساحة من الأرض تتميز بخصائص مناخية محددة..... (الإقليم - التربة - المحمية - المنخفض)

3 أجب عن الأسئلة الآتية:

- 1 اقترح بعض الحلول لحل مشكله التغير المناخي؟
-
- 2 فسر أهمية وجود الجيش في مصر القديمة؟
-

4 اكتب كلمة (صواب) أمام العبارة الصحيحة وكلمة (خطأ) أمام العبارة الغير صحيحة:

- 1 تهب رياح الخماسين على مصر وتكون محملة بالأتربة والرمال (.....)
- 2 من الغازات المسببة ارتفاع في درجة حرارة الأرض غاز الأكسجين (.....)
- 3 ارتدى سكان مملكة الجنوب التاج الاحمر (.....)
- 4 تنمو النباتات الحولية على سواحل البحر المتوسط وتستخدم في الرعي (.....)

اختبار (2)

- ١ نبق ١
٢ الصحراء الغربية ٢
٣ العوينات ٣
٤ مدار السرطان ٤
- ٢ الدلتا ١
٣ دائرة القطب الجنوبي ٣
٤ وادي العلاقي ٢
الإقليم ٤
- ٣ - إعادة تدوير المياه العذبة ١
- استخدام وسائل النقل المستدام ٢
- حماية البلاد من الأعداء ٢
- ٤ خطأ ٢
صواب ١
خطأ ٣
صواب ٤

اختبار (1)

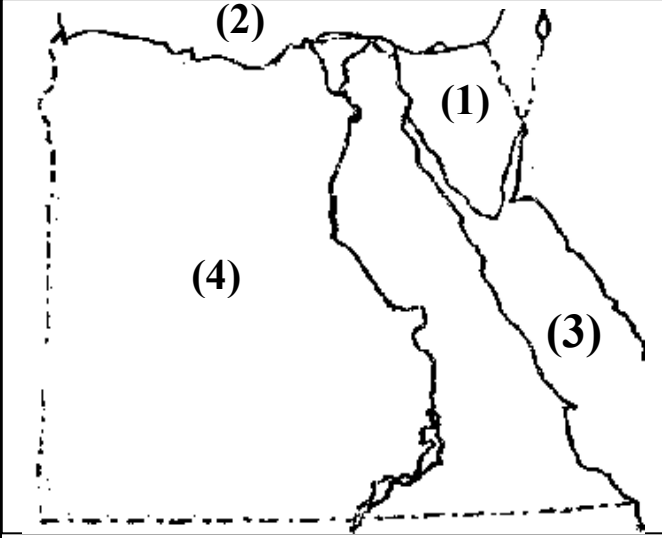
- ١ المعازة ١
٢ دمياط ٢
٢ شمال سيناء ١
٣ الصحراوي ٣
٣ فرق التوقيت ١
٤ الملك مينا ٣
٤ يحدث فصل الشتاء ١
٢ يتنوع النبات الطبيعي حسب البيئة الذي ينمو فيها ٢
- ٢ الصحراء الغربية ٢
٤ الجنوب ٤
٢ الصحراء الغربية ٢
٤ فصول السنه ٤
٢ الصبار ٢
٤ تحتمس الثالث ٤

سندباد



امتحان دراسات الصف الخامس (1)

السؤال الأول: (أ) أمامك خريطة صماء لمصر



- يشير رقم (1) منطقة

-
- يشير رقم (2) إلى البحر
- يشير رقم (3) إلى البحر
- يشير رقم (4) إلى الصحراء

(ب) قارن بين مملكة الجنوب والشمال من حيث العاصمة والشعار:



مملكة الجنوب	مملكة الشمال	المقارنة
.....	العاصمة
.....	لون التاج

السؤال الثاني: انظر إلى الصورتين، ثم أجب

- 1- الصورة (أ) تشير إلى تاج مملكة
- 2- الصورة (ب) تشير إلى تاج مملكة

(ب) تاج أحمر

(أ) تاج أبيض



(ب) ضع خطاً تحت الكلمة المختلفة مع ذكر السبب:

(الربيع - الخريف - السبت - الصيف)

- السبب

السؤال الثالث: (أ) اكتب كلمة (صواب) أو كلمة (خطأ) أمام كل عبارة

- (1) تسبب رياح الخماسين تلف المحاصيل الزراعية. ()
 - (2) يُعد جبل العوينات من أهم المعالم التضاريسية للصحراء الغربية. ()
 - (3) تُعد مدينة طيبة أول عاصمة لمصر الموحدة. ()
 - (4) عاش المصري القديم في بداية حياته فوق الهضاب. ()
 - (5) تتميز أراضي جنوب سيناء بوعورة السطح. ()
- (ب) اكتب دليلاً على أهمية خطوط الطول.

السؤال الرابع (أ) ضع خطأً تحت الإجابة الصحيحة

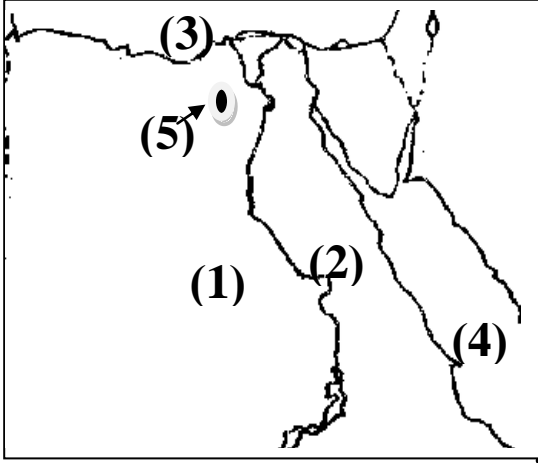
- (1) يُقسم خط جرينتش الكرة الأرضية إلى نصفين
(شرقي وشمالي - غربي وجنوبي - شمالي وجنوبي - شرقي وغربي)
 - (2) كان ملك مملكة الشمال يلبس التاج
(المزدوج - الأبيض - الأصفر - الأحمر)
 - (3) تربة وادي النيل والدلتا والفيوم
(صخرية صلبة - رملية جافة - طينية خصبة)
 - (4) تنشط رياح الخماسين في مصر في فصل
(الخريف - الشتاء - الربيع - الصيف)
 - (5) تربة وادي النيل والدلتا والفيوم
(صخرية صلبة - رملية جافة - طينية خصبة)
- (ب) اكتب نتيجة واحدة تترتب على هبوب رياح الخماسين.

امتحان (1)

دراسات

الصف الخامس

السؤال الأول: انظر إلى الخريطة واختر



(1) يشير رقم (1) إلى الصحراء

(2) يشير رقم (2) إلى الصحراء

(3) يشير رقم (3) إلى البحر

(4) يشير رقم (4) إلى البحر

(5) يشير رقم (5) إلى منخفض

السؤال الثاني: ضع خطاً تحت الإجابة الصحيحة

(1) تقع مصر في قارة أفريقيا.

(شمال شرق - جنوب غرب - شمال غرب - جنوب شرق)

(2) تطل مصر على من جهة الشرق.

(البحر المتوسط - البحر الأسود - البحر الأحمر)

(3) الفرق بين كل خط طول وخط آخر هو مدة دقائق.

(ثلاث - أربع - خمس - ست)

(4) من العوامل الطبيعية لقيام الحضارة المصرية

(الوحدة - الجيش - الحكومة - نهر النيل)

(5) كل ما يأتي من العوامل الطبيعية لقيام الحضارة المصرية ماعدًا

(موقع مصر - نهر النيل - الجيش - مناخ مصر)

(6) نستفيد من في معرفة الوقت وتحديد الأماكن.

(خط جرينتش - دائرة الاستواء - مدار السرطان)

السؤال الثالث: اكتب كلمة (صواب) أو كلمة (خطأ) أمام كل عبارة

- (1) عاش المصري القديم في بداية حياته فوق الهضاب. (.....)
- (2) استطاع الملك نعرمر (مينا) توحيد البلاد ولبس التاج المزدوج. (.....)
- (3) تُشرق الشمس على الأماكن الواقعة شرق خط (جرينتش) أولاً. (.....)
- (4) نستفيد بدائرة الاستواء ودوائر العرض في تحديد الزمن. (.....)
- (5) ساعد موقع مصر المتميز على قيام الحضارة المصرية القديمة. (.....)

السؤال الرابع : أجب

(1) اذكر سببا واحدا لانتقال المصري القديم من مكان لآخر فوق الهضاب.

.....

(2) اكتب سببا لتسمية الدولة القديمة بـ(عصر بناء الأهرامات).

.....

(3) اكتب دليلا على أهمية خطوط الطول.

.....

(4) اكتب نتيجة واحدة تترتب على هبوب رياح الخماسين.

.....

استبعد الكلمة المختلفة مع ذكر السبب:

(1) الصبار - التين الشوكي - الذرة - الخروع. - السبب

اكتب ما تدل عليه العبارة:

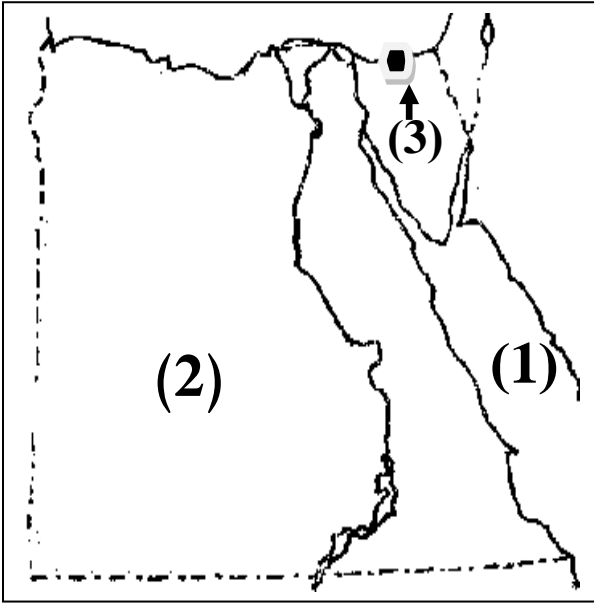
(1) نبات ينمو من تلقاء نفسه دون تدخل الإنسان في زراعته. (.....)

امتحان (2)

دراسات

الصف الخامس

انظر إلى الخريطة واختر:



- (أ) يشير رقم (1) إلى البحر
(الأحمر - الأسود - المتوسط)
- (ب) يشير رقم (2) إلى الصحراء
(الشرقية - الغربية - الكبرى)
- (ج) يشير رقم (3) إلى محمية في سيناء.
(الغابة المتحجرة - الزرائيق - نبق)

السؤال الثاني: ضع خطاً تحت الإجابة الصحيحة

- (1) السبب الرئيس في ارتفاع مستوى المياه في البحار هو
(سرعة الرياح - ذوبان الجليد في القطبين - سقوط الأمطار)
- (2) الملك هو مؤسس أول أسرة حاكمة في تاريخ مصر.
(تحتمس الثالث - مينا - حسن رجب)
- (3) من الحيوانات المهددة بالإنقراض في مصر
(الجمل - الحصان - الفهد المصري - الماعز)
- (4) تتميز النباتات الطبيعية التي تنمو في الصحراء بأنها
(ناعمة الملمس - تتحمل الجفاف - سريعة النمو)
- (5) تنشط رياح الخماسين في مصر في فصل
(الخريف - الشتاء - الربيع - الصيف)
- (6) تربة وادي النيل والدلتا والفيوم
(صخرية صلبة - رملية جافة - طينية خصبة)

السؤال الثالث: اكتب كلمة (صواب) أو كلمة (خطأ) أمام كل عبارة

- (1) ذوبان الجليد في القطبين يسبب ارتفاع منسوب المياه في البحار. (.....)
- (2) تتنوع النباتات الطبيعية في مصر؛ بسبب تنوع المناخ. (.....)
- (3) يتساوى عدد ساعات الليل والنهار في فصل الصيف. (.....)
- (4) ساعد موقع مصر المتميز على قيام الحضارة المصرية القديمة. (.....)
- (5) تتميز أراضي جنوب سيناء بوعورة السطح. (.....)

السؤال الرابع : أجب

(1) اكتب نتيجة واحدة تترتب على دوران الشمس حول الأرض.

..... -

(2) ماذا تتوقع إذا سقطت الأمطار الغزيرة على الصحراء لفترات طويلة سنويًا.

..... -

(3) اذكر سببًا واحدًا: تهاجر كثير من الطيور من أوروبا وآسيا إلى أفريقيا.

..... -

(4) اكتب دليلا على اهتمام الدولة بمواجهة التغيرات المناخية.

..... -

السؤال الخامس: (أ) استبعد الكلمة المختلفة مع ذكر السبب

(1) الربيع - الخريف - السبت - الصيف.

(2) العريش - السلوم - قنا - الإسكندرية.

(ب) اكتب ما تدل عليه العبارة:

- دائرة تقسم العالم إلى قسمين شمالي وجنوبي، عند درجة صفر. (.....)